

1. 2011 की जनगणना के अनुसार, राजस्थान के किस जिले में न्यूनतम ग्रामीण लिंगानुपात था?
(A) पाली (B) टोंक
(C) धौलपुर (D) जैसलमेर [C]
2. निम्नलिखित में से राजस्थान के किन जिलों के समूह में मुख्यतः कच्छारी मृदा पाई जाती है?
(A) कोटा - बूंदी (B) बांसवाडा - डूंगरपुर
(C) बीकानेर - जैसलमेर (D) भरतपुर - धौलपुर [D]
3. बहुआयामी गरीबी सूचकांक की अवधारणा किस वर्ष शुरू की गई थी?
(A) 2008 (B) 2011
(C) 2000 (D) 2010 [D]
4. निपुण भारत मिशन कार्यान्वित किया जा रहा है?
(A) विज्ञान एवं प्रौद्योगिकी मंत्रालय द्वारा
(B) शिक्षा मंत्रालय द्वारा
(C) सूक्ष्म, लघु एवं मध्यम उद्यम मंत्रालय द्वारा
(D) श्रम एवं रोजगार मंत्रालय द्वारा [B]
5. अकबर द्वारा निर्मित 'शुक्र तालाब' किस जिले में स्थित है?
(A) नागौर (B) गागरोन
(C) शेरगढ (D) सिवाना [A]
6. राजस्थान में संचालित सूखा संभाव्य क्षेत्र कार्यक्रम (डी.पी.ए.पी.) की वित्तीय व्यवस्था के लिए केन्द्र एवं राज्य का हिस्सा कितना रखा गया है?
(A) 50:50 (B) 60:40
(C) 90:10 (D) 75:25 [D]
7. निम्नलिखित में से कौनसा वाद्य यंत्र बाकी तीन से अलग है?
(A) अलगोजा (B) मशक
(C) खडताल (D) शहनाई [C]
8. राजस्थान राज्य पर्यावरण नीति किस वर्ष में घोषित की गई?
(A) 2018 (B) 2008
(C) 2013 (D) 2010 [D]
9. राजस्थान में नियोजन विभाग की स्थापना कब हुई?
(A) 1956 (B) 1953
(C) 1955 (D) 1954 [B]
10. चित्तौड़गढ स्थित 'विजय स्तम्भ' पर हमला स्मारक डाक टिकट कब जारी किया गया?
(A) 1974 (B) 1949
(C) 1956 (D) 1986 [B]
11. भारत के किस राज्य में कुल क्षेत्रफल में वनों का क्षेत्रफल प्रतिशत सर्वाधिक है?
(A) अरुणाचल प्रदेश (B) मिज़ोरम
(C) त्रिपुरा (D) नागालैण्ड [B]
12. 'बीथड़ी पवन ऊर्जा परियोजना' राजस्थान के किस जिले में स्थापित की गई है?
(A) जैसलमेर (B) चित्तौड़गढ
(C) जोधपुर (D) बीकानेर [C]
13. राजस्थान में नगर पालिका, अध्यक्ष के विरुद्ध अविश्वास के प्रस्ताव पर विचार करने के लिए किसी बैठक के गठन के लिए गणपूर्ति उसमें मतदान के हकदार व्यक्तियों की कुल संख्या की..... होगी।
(A) दसवाँ भाग (1/10)
(B) तीन चौथाई (3/4)
(C) दो तिहाई (2/3)
(D) एक तिहाई (1/3) [C]
14. निम्न में से किस रेलवे स्टेशन को हाल ही में प्लेटिनम ग्रीन रेलवे स्टेशन रेटिंग दी गई है?
(A) अजमेर (B) मुंबई
(C) हैदराबाद (D) जोधपुर [D]
15. भारत में शुष्क क्षेत्र कृषि की जाती है?
(A) 150 से.मी. से अधिक वर्षा क्षेत्रों में
(B) 35 से.मी. से 75 से.मी. वार्षिक वर्षा क्षेत्रों में
(C) 100 से.मी. से 150 से.मी. वार्षिक वर्षा क्षेत्रों में
(D) 75 से.मी. से 110 से.मी. वार्षिक वर्षा क्षेत्रों में [B]
16. वर्तमान में राजस्थान में आर्थिक नियोजन के क्षेत्र में किस प्रणाली को अपनाया जा रहा है?
(A) संघीय आर्थिक प्रणाली
(B) जिला स्तरीय आर्थिक प्रणाली
(C) सार्वजनिक आर्थिक प्रणाली
(D) केन्द्रीयकृत आर्थिक प्रणाली [D]
17. 'मुगती' नामक कविता संग्रह के रचयिता हैं
(A) आशा पाराशर (B) विजय वर्मा
(C) कीर्ति शर्मा (D) मीठेश निर्मोही [D]
18. राजस्थान राज्य सूचना आयोग सूचना नहीं देने पर अधिकतम कितनी राशि का जुर्माना आरोपित कर सकता है?
(A) 30,000 (B) 20,000
(C) 25,000 (D) 15,000 [C]
19. कौनसा (खनिज - खनन क्षेत्र) सही सुमेलित नहीं है?
(A) लौह अयस्क - मोरीजा-डाबला
(B) रॉक फॉस्फेट - झामर-कोटडा
(C) तामड़ा - कालागुमान
(D) मैंगनीज़ - काला-खुंटा [C]
20. अधोलिखित कथनों को सावधानीपूर्वक पढ़िए?
(i) 19वीं सदी के उत्तरार्द्ध में, मेवाड़ में देश हितेषिणी सभा की स्थापना की गयी।
(ii) सभा का मुख्य उद्देश्य समाज सुधार था।
सही कूट चुनिए -
(A) केवल कथन (ii) सत्य है
(B) केवल कथन (i) सत्य है
(C) दोनों कथन सत्य है
(D) न तो (i) ना ही (ii) सत्य है [C]
21. भारत के किस गवर्नर जनरल के कार्यकाल के दौरान, हिंदू विधवा पुनर्विवाह अधिनियम पारित किया गया था?
(A) लॉर्ड कैनिंग
(B) लॉर्ड एमहर्स्ट
(C) लॉर्ड मेयो
(D) लॉर्ड एलनबरो [A]
22. राजस्थान का सबसे बड़ा कृषि - जलवायु प्रदेश कौनसा है?
(A) उप आर्द्र दक्षिणी मैदान
(B) अति शुष्क आंशिक सिंचित क्षेत्र
(C) शुष्क पश्चिमी मैदान
(D) आंतरिक प्रवाह का शुष्क क्षेत्र [B]
23. मनरेगा की तर्ज पर राजस्थान के शहरी निकायों की सीमा में रहने वाले परिवारों को वित्तीय सहयोग के लिए कौनसी योजना लागू की गई है?
(A) इंदिरा गाँधी शहरी रोजगार गारन्टी योजना
(B) राजीव गाँधी शहरी रोजगार गारन्टी योजना
(C) मुख्यमंत्री शहरी रोजगार योजना
(D) दीन दयाल उपाध्याय शहरी रोजगार गारन्टी योजना [A]
24. राजस्थान के किस भाग में मक्का का सर्वाधिक उत्पादन होता है?
(A) मध्यवर्ती (B) उत्तरी
(C) दक्षिणी तथा दक्षिणी पूर्वी (D) पूर्वी [C]
25. 'ईसरदा बाँध परियोजना' किन जिलों में निर्मित किया ?
(A) डूंगरपुर और बांसवाडा (B) झालावाड़ और बारां
(C) टोंक और सवाई माधोपुर (D) कोटा और बारां [C]

26. निम्नांकित में से कौनसा (स्थलाकृति - अवस्थिति) सही सुमेलित नहीं है?
 (A) भोराट पठार - कुम्भलगढ़ से गोगुन्दा के मध्य
 (B) लसाडिया पठार - राजसमन्द
 (C) उडिया पठार - मा- आबू
 (D) भाकर - पूर्वी सिरोही [B]
27. 1818 ई. में, कम्पनी की ओर से राजपूत राज्यों से संधि करने वाला अधिकारी था?
 (A) चार्ल्स हेक्टर (B) चार्ल्स मेटकाफ
 (C) जेम्स फर्ग्यूसन (D) मॉक मेसन [B]
28. श्रीधर अंधारे को किस चित्रशैली को प्रकाश में लाने का श्रेय दिया जाता है ?
 (A) किशनगढ़ (B) उणियारा
 (C) देवगढ़ (D) शाहपुरा [C]
29. सन् 1960-61 में, 'गहन कृषि जिला कार्यक्रम' के अंतर्गत कितने जिलों को समाहित किया गया?
 (A) आठ जिले (B) सात जिले
 (C) नौ जिले (D) दस जिले [B]
30. निम्नलिखित ठिकानों में से किसने 'चँवरी कर' लगाया?
 (A) बिजौलिया (B) भैंसरोडगढ़
 (C) डीडवाना (D) कुचामन [A]
31. जनगणना 2011 के अनुसार, राजस्थान में लिंगानुपात- ?
 (A) राष्ट्रीय औसत से 11 बिन्दू कम है।
 (B) राष्ट्रीय औसत से 6 बिन्दू कम है।
 (C) राष्ट्रीय औसत से 15 बिन्दू कम है।
 (D) राष्ट्रीय औसत से 6 बिन्दू अधिक है। [C]
32. राजस्थान विधान सभा के प्रथम प्रोटेम स्पीकर कौन थे?
 (A) पूनम चंद विश्नोई (B) महाराव संग्राम सिंह
 (C) नारायण सिंह मसुदा (D) यशवंत सिंह नाहर [B]
33. केन्द्रीय बैंक द्वारा निम्न में से कौनसी साख नियंत्रण की परिमाणतात्मक विधि है?
 (A) ऋण राशनिंग (B) सीमांत आवश्यकताएं
 (C) बैंक दर (D) प्रत्यक्ष कार्यवाही [C]
34. राजस्थान के राज्यपाल पदेन कुलाधिपति होते हैं-
 (A) राजस्थान के समस्त राज्य के साथ ही निजी विश्वविद्यालयों के।
 (B) समस्त राज्य एवं निजी विश्वविद्यालयों के साथ ही राजस्थान के भू-भाग में कार्यरत, केन्द्रीय विश्वविद्यालय के।
 (C) राजस्थान के समस्त राज्य विश्वविद्यालयों के।
 (D) समस्त राज्य विश्वविद्यालयों के साथ ही राजस्थान के भू-भाग में कार्यरत केन्द्रीय विश्वविद्यालयों के। [C]
35. एक रुपये के नोट पर किसके हस्ताक्षर होते हैं?
 (A) गवर्नर, आर.बी. आई. (B) वित्त मंत्री
 (C) सचिव, वित्त मंत्रालय (D) प्रधानमंत्री [C]
36. खस की घास मुख्य रूप से राजस्थान में पाई जाती है?
 (A) आबू पर्वत क्षेत्र में
 (B) पश्चिमी राजस्थान में
 (C) भरतपुर और टोंक वन विभाग
 (D) दक्षिणी - पूर्वी राजस्थान (हाड़ौती) में [C]
37. वर्तमान में संयुक्त राष्ट्र संघ के महासचिव कौन हैं?
 (A) एण्टोनियो गुटेरेस
 (B) बान की - मून
 (C) कोफी अन्नान
 (D) पेरेज दी कुएलर [A]
38. के. के. बिड़ला फाउंडेशन द्वारा 32वाँ बिहारी पुरस्कार, डॉ. माधव हाड़ा को प्रदान किया गया, उनकी किस कृति के लिए?
 (A) प्रचरंग चोला पहर सखी री
 (B) हम यहाँ थे
 (C) तस्लीमा : संघर्ष और साहित्य
 (D) आंख हींयै रा हरियल सपना [A]
39. शेरगढ़ वन्यजीव अभ्यारण्य किस जिले में स्थित है?
 (A) बारां (B) बूंदी
 (C) करौली (D) सवाई माधेपुर [A]
40. भारत की प्रथम जैतून रिफायनरी, राजस्थान में स्थापित की गई थी?
 (A) अमरसागर में (B) सूरतगढ़ में
 (C) पचपद्रा में (D) लूणकरणसर में [D]
41. ई-श्रम पोर्टल का उद्देश्य है-
 (A) कामगारों को ऑनलाईन भुगतान करना
 (B) असंगठित कामगारों का एक राष्ट्रीय डेटाबेस बनाना
 (C) संगठित कामगारों का एक राष्ट्रीय डेटाबेस बनाना
 (D) कामगारों को शिक्षित करना [B]
42. भील जनजाति के पुरुष कमर पर जो वस्त्र लपेटा करते हैं, उसे क्या कहा जाता है?
 (A) पोल्या (B) खोयतु
 (C) कछाबू (D) जामा [B]
43. हाल ही में (9 अप्रैल 2022 को) राजस्थान के निम्नलिखित में से किस लोक संगीत कलाकार को 'संगीत नाटक अकादमी पुरस्कार' प्रदान किया गया?
 (A) गाज़ी खान बरना (B) मामे खान
 (C) खेता खान (D) दापू खान [A]
44. 'प्लांड इकोनॉमी फॉर इंडिया' पुस्तक किसने लिखी ?
 (A) पं. जवाहर लाल नेहरु (B) महात्मा गांधी
 (C) मनमोहन सिंह (D) एम. विश्वेश्वरैया [D]
45. सुमेलित कीजिए ?

कुलदेवी	जाति
(1) करणी माता	(i) नाई
(2) सकराय माता	(ii) सीरवी
(3) आई माता	(iii) खण्डेलवाल
(4) नारायणी माता	(iv) चारण

(A) 1-ii, 2-i, 3-iv, 4-iii
 (B) 1-iv, 2-iii, 3-I, 4-ii
 (C) 1-iv, 2-I, 3-ii, 4-iii
 (D) 1-iv, 2-iii, 3-ii, 4-i [D]

46. 'बातां री फुलवारी' कितने खण्डों में विभक्त है?
 (A) 14 (B) 10
 (C) 8 (D) 16 [A]

47. साहिबदीन नामक चित्रकार को मेवाड़ के किस शासक का संरक्षण प्राप्त था?
 (A) महाराणा अमरिसंह (B) महाराणा कुम्भा
 (C) महाराणा जगतसिंह I (D) महाराणा राजसिंह [C]

48. 15वें वित्तीय आयोग के अध्यक्ष कौन हैं?
 (A) डॉ. अशोक लाहिड़ी (B) निर्मला सीतारमण
 (C) एन. के. सिंह (D) अजय नारायण [C]

49. राष्ट्रीय केसर मिशन निम्नलिखित में से किसकी उप-योजना के रूप में लांच किया गया?
 (A) राष्ट्रीय कृषि विकास योजना
 (B) राष्ट्रीय खाद्य सुरक्षा मिशन
 (C) राष्ट्रीय नकदी फसल प्रोग्राम
 (D) राष्ट्रीय बागवानी मिशन [A]

50. गोविंद देव मन्दिर, जयपुर एवं मदन मोहन मन्दिर, करौली का संबंध किस सम्प्रदाय से है?
 (A) वल्लभ (B) गौड़ीय
 (C) नाथ (D) रामस्नेही [B]

51. यदि भारतीय मानक समय (IST) को निर्धारित करने वाली देशान्तर रेखा को प्रधान देशान्तर रेखा का दर्जा दिया जाए, तो अन्तर्राष्ट्रीय तिथि रेखा का देशान्तर क्या होगा?
 (A) 97°30' पश्चिम (B) 82°30' पूर्व
 (C) 97°30' पूर्व (D) 180° पूर्व [A]

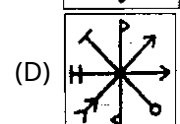
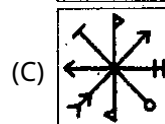
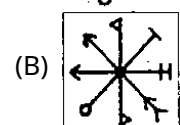
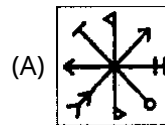
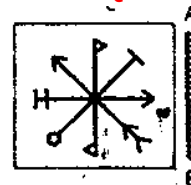
52. सीमा सुरक्षा बल द्वारा जनवरी, 2022 में राजस्थान की सीमा पर कौन सा अभियान चलाया गया?
(A) ऑपरेशन शक्ति (B) ऑपरेशन सर्द हवा
(C) ऑपरेशन क्रांति (D) ऑपरेशन पवन [B]
53. हाल ही में खबरों में रहा 'परख' निम्नलिखित में से किससे संबंधित है?
(A) उद्योग (B) बैंकिंग
(C) शिक्षा (D) स्वास्थ्य [C]
54. राजस्थान में सीमेंट का प्रथम कारखाना कहाँ स्थापित हुआ था?
(A) गोटन (B) ब्यावर
(C) लाखेरी (D) डबोक [C]
55. निम्नांकित में से कौन सा कथन सत्य है?
(i) 6 अगस्त 2022 को जगदीप धनखड़ ने भारत के 14वें उपराष्ट्रपति के रूप में शपथ ली (व्यक्ति के अनुसार)
(ii) जगदीप धनखड़ का संबंध झुन्झुनू जिले से है तथा राजस्थान से उपराष्ट्रपति बनने वाले दूसरे व्यक्ति हैं।
(iii) यह लोकसभा सांसद, राजस्थान विधानसभा के सदस्य व पश्चिम बंगाल के राज्यपाल भी रहे हैं।
(iv) वर्तमान में संसद के दोनों ही सदनों के अध्यक्ष राजस्थान से हैं।
(A) i, ii, iii
(B) i, ii, iii, iv
(C) ii, iii
(D) ii, iii, iv [D]
56. निम्नलिखित में से कौन सा (स्थानान्तरी कृषि क्षेत्र) सुमेलित नहीं है?
(A) पोडू- आन्ध्र प्रदेश और ओडिशा
(B) झूम- असम
(C) कुमारी -मध्य प्रदेश
(D) पोनम -केरल [C]
57. भारत को 15 कृषि-जलवायु प्रदेशों में विभक्त किया गया है -
(A) मौसम विभाग द्वारा (B) कृषि मंत्रालय द्वारा
(C) योजना आयोग द्वारा (D) जल संसाधन मंत्रालय द्वारा [C]
58. निम्न में से कौन-सा युग्म सुमेलित नहीं है?
(A) पृथ्वीराज विजय चन्दबरदाई
(B) वंश भास्कर सूर्यमल्ल मीसण
(C) हम्मीर महाकाव्य नयनचन्द्र सूरी
(D) कुवलयमाला उद्योतन सूरी [A]
59. विजयसिंह पथिक ने किस समाचार पत्र के माध्यम से बिजौलिया किसान आन्दोलन का प्रचार पूरे भारत में कर दिया था?
(A) तरुण राजस्थान (B) नवीन राजस्थान
(C) प्रताप (D) युगान्तर [C]
60. मूंगफली के उत्पादन में राजस्थान का भारत में कौनसा स्थान है?
(A) चतुर्थ (B) तृतीय
(C) प्रथम (D) द्वितीय [A]
61. निम्न में से कौन इंदिरा गांधी नहर परियोजना का प्रस्तावित लाभार्थी जिला नहीं है?
(A) नागौर (B) पाली
(C) जोधपुर (D) सीकर [B]
62. 'भोर' (बी.एच.ओ.आर.) कार्यक्रम जो कि पुलिस आयुक्तालय जयपुर के समन्वय से चलाया जा रहा है, का उद्देश्य है -
(A) बाल श्रम का उन्मूलन
(B) नशामुक्ति
(C) अपराधियों का पुनर्वास
(D) भिक्षुकों का पुनर्वास [D]
63. राज्य मानवाधिकार आयोग के अध्यक्ष की नियुक्ति "राज्यपाल द्वारा एक समिति की सिफारिश पर की जाती है, जिसमें कौन शामिल नहीं होता है?
(A) उच्च न्यायालय का मुख्य न्यायाधीश
(B) विधानसभा अध्यक्ष
(C) विधानसभा का विपक्ष का नेता
(D) मुख्यमंत्री [A]
64. निम्नलिखित पहाड़ियों में से कौन सी सतपुड़ा श्रृंखला का भाग नहीं है?
(A) राजपीपला (B) भारनेर
(C) महादेव (D) मैकाल [B]
65. जनवरी 2023 में 108वीं इंडियन साइंस कांग्रेस आयोजित होगी-
(A) अगरतला में (B) बैंगलोर में
(C) नागपुर में (D) उदयपुर में [C]
66. निम्नलिखित में से कौनसा भारत में हरित क्रांति से संबंधित है?
(A) उच्च उत्पादकता किस्मों के बीज
(B) हरित जी.एन.पी. की गणना
(C) हरित गृह प्रभाव
(D) पर्यावरण संरक्षण [A]
67. कार्तिक महीने में चन्द्रभागा पशु मेला राजस्थान में किस स्थान पर आयोजित होता है?
(A) झालरापाटन (B) झालावाड़
(C) सीताबाड़ी (D) केशवरायपाटन [A]
68. अडानी हाइब्रिड एनर्जी की सहायक कंपनी ने किस स्थान पर भारत का पहला पवन-सौर हाइब्रिड पावर प्लांट स्थापित किया?
(A) रायपुर (B) जैसलमेर
(C) दिल्ली (D) हैदराबाद [B]
69. राजस्थान लोकसेवा गारंटी अधिनियम, 2011 के अंतर्गत प्रथम अपीलीय प्राधिकारी के निर्णय के विरुद्ध कितने दिनों में द्वितीय अपीलीय प्राधिकारी को अपील की जा सकती है?
(A) 60 दिन (B) 30 दिन
(C) 45 दिन (D) 15 दिन [A]
70. हटुण्डी (अजमेर) में गांधी आश्रम की स्थापना के द्वारा की गई।
(A) हरिभाऊ उपाध्याय (B) अर्जुनलाल सेठी
(C) जमनालाल बजाज (D) माणिक्य लाल वर्मा [A]
71. 1857 की क्रांति में अंग्रेज एवं जोधपुर राज्य की संयुक्त सेना को किसने पराजित किया?
(A) जयदयाल ने (B) मेहराब खान ने
(C) ठाकुर कुशल सिंह ने (D) रावत रामसिंह ने [C]
72. निम्न में से राजस्थान के किस मुख्यमंत्री के कार्यकाल में सर्वाधिक बार राष्ट्रपति शासन लगाया गया?
(A) हरीदेव जोशी (B) शिवचरण माथुर
(C) भैरों सिंह शेखावत (D) मोहन लाल सुखाड़िया [C]
73. भारतीय लोक कला मण्डल संस्थान कहाँ स्थित है?
(A) जयपुर (B) उदयपुर
(C) जोधपुर (D) टोंक [B]
74. राजस्थान के किस जिले में, जियो लॉजिकल सर्वे ऑफ इण्डिया 2021 के नवीनतम सर्वेक्षण में सीमेंट ग्रेड लाइमस्टोन के विशाल भण्डार मिले हैं?
(A) जैसलमेर (B) झालावाड़
(C) पाली (D) चित्तौड़गढ़ [A]
75. फ्रेन्च ओपन-2022 में महिला एकल की विजेता कौन हैं?
(A) क्रिस्टीना म्लादेनोविक
(B) इगा स्विघातेक
(C) कैरोलिन गार्सिया
(D) सी. गौफ [B]

76. 'बढ़ार' क्या है?
 (A) अंत्येष्टि की एक क्रिया (B) राजस्थान की एक जनजाति
 (C) राजस्थान की एक झील (D) विवाह पर आयोज्य भोज [D]
77. फल्कू बाई का सम्बन्ध किस लोक नृत्य से है?
 (A) तेरहताली नृत्य (B) भवाई नृत्य
 (C) चरी नृत्य (D) कालबेलिया नृत्य [C]
78. राजस्थान में कौन से जिलों में जनसंख्या घनत्व 100 व्यक्ति प्रति वर्ग किलोमीटर से कम पाया जाता है? (जनगणना 2011 के अनुसार)
 (A) जैसलमेर, पाली और जोधपुर
 (B) जैसलमेर, बाड़मेर और जोधपुर
 (C) जैसलमेर, पाली और बाड़मेर
 (D) जैसलमेर बाड़मेर और बीकानेर [D]
79. साम्प्रदायिक सौहार्द के प्रतीक, काज़ी हमीदुद्दीन नागौरी, किस सूफ़ी सिलसिले के थे?
 (A) चिश्ती (B) कादिरी
 (C) मगरिबी (D) सुहरावर्दी [A]
80. मलिक शाह की मस्जिद कहाँ स्थित है?
 (A) झालावाड़ (B) राजसमंद
 (C) बारां (D) जालोर [D]
81. लोदवा प्रसिद्ध है-
 (A) जाटों के लिए (B) गुर्जरों के लिए
 (C) सिक्खों के लिए (D) जैनियों के लिए [D]
82. भारत में सर्वाधिक रागी उत्पादक राज्य है-
 (A) तमिलनाडु (B) कर्नाटक
 (C) महाराष्ट्र (D) उत्तराखंड [B]
83. शिवसमुद्रम जलप्रपात किस नदी पर अवस्थित है?
 (A) पेरियार (B) गोदावरी
 (C) शरावती (D) कावेरी [D]
84. राजस्थान के निम्नलिखित में से किन जिलों में 'इन्सेप्टीसोल्स मृदा पायी जाती है?
 (A) जयपुर, दौसा और अलवर
 (B) कोटा, बूंदी और बारा
 (C) पाली, भीलवाड़ा और सिरोही
 (D) जैसलमेर, बाड़मेर और बीकानेर [C]
85. निम्नलिखित में से किस षडयंत्र केस में प्रतापसिंह बारहठ को कारावास दिया गया?
 (A) उदयपुर षडयंत्र मुकदमा (B) बनारस षडयंत्र मुकदमा
 (C) लाहौर षडयंत्र मुकदमा (D) अलीपुर षडयंत्र मुकदमा [B]
86. 'महणसर' प्रसिद्ध है -
 (A) सोने की चित्रकारी के लिए
 (B) सती माता मन्दिर के लिए
 (C) मुगलकालीन चित्रों की अधिकता के लिए
 (D) 360 खिड़कियों की हवेली के लिए [D]
87. निम्नलिखित में से कौन सा (सिंचाई परियोजना - जिला) सुमेलित नहीं है?
 (A) परवन लिफ्ट- जयपुर (B) सावन-भादो - कोटा
 (C) सोम कागदर- उदयपुर (D) सोम-कमला-अम्बा- डूंगरपुर [A]
88. शिक्षा संत के रूप में प्रसिद्ध स्वामी केशवानन्द का जन्म कहाँ हुआ?
 (A) मंगलूना गाँव (B) हरनावा गाँव
 (C) बाणासुर गाँव (D) रामपुरा बेरी [A]
89. कथनों को ध्यानपूर्वक पढ़िए
 (i) टीकाराम पालीवाल राजस्थान में एकमात्र ऐसे मुख्यमंत्री हैं, जो उपमुख्यमंत्री भी रहे हैं।
 (ii) हरिशंकर भाभड़ा राजस्थान में अब तक सबसे लम्बे समय तक उपमुख्यमंत्री रहे हैं।
- निम्न में से कौनसा विकल्प सही है?
 (A) i व ii दोनों कथन गलत हैं
 (B) i व ii दोनों कथन सही हैं
 (C) केवल कथन ii सही है
 (D) केवल कथन i सही है [B]
90. 1857 की क्रांति के दौरान जयपुर के पॉलिटिकल ऐजेण्ट कौन थे?
 (A) मेजर मॉरीसन (B) मेजर बर्टन
 (C) विलियम ईडन (D) मॉक मैसन [C]
91. केसरी सिंह बारहठ ने 'चेतावनी रा चुंगटिया किसको सम्बोधित करके लिखा?
 (A) मिर्ज़ा राजा जयसिंह (B) महाराणा फतेह सिंह
 (C) महाराणा प्रताप सिंह (D) महाराणा अजीत सिंह [B]
92. भरतपुर राज्य प्रजा संघ की स्थापना हुई -
 (A) 1937 में (B) 1942 में
 (C) 1928 में (D) 1938 में [C]
93. निम्नलिखित में से कौनसा (राजनीतिक कार्यकर्ता संबंधित देशी राज्य) सुमेलित नहीं है?
 (A) गोपीलाल यादव- भरतपुर (B) मथुरा दास माथुर- मारवाड़
 (C) कृष्णदत्त पालीवाल- धौलपुर (D) हरिमोहन माथुर- करौली [D]
94. निम्नलिखित में से कौनसा (आभूषण मानव अंग) सुमेलित नहीं है?
 (A) तगड़ी- कमर (B) सुरलिया- कान
 (C) रमझोल-कलाई (D) तिमणिया- गला [C]
95. सुमेलित कीजिये -
 (1) अजरख प्रिंट (ii) कैथून
 (2) पावरलूम कपड़ों पर छपाई (iii) जोधपुर
 (3) मोठड़ा (iii) बालोतरा
 (4) मसूरिया (iv) बाड़मेर
 सही विकल्प चुनें-
 (A) (1)-(ii), (2)-(iii), (3)-(iv), (4)-(i)
 (B) (1)-(iv), (2)-(iii), (3)-(ii), (4)-(i)
 (C) (1)-(ii), (2)-(iv), (3)-(i), (4)-(ii)
 (D) (1)-(i), (2)-(ii), (3)-(iii), (4)-(iv) [B]
96. जोधपुर का महामन्दिर उपासना स्थल है-
 (A) बिश्रोई संप्रदाय का (B) रामस्नेही संप्रदाय का
 (C) दादू संप्रदाय का (D) नाथ संप्रदाय का [D]
97. चार हाथों वाला लोकदेवता किसे कहा जाता है?
 (A) कल्ला जी (B) झुन्झार जी
 (C) मल्लीनाथ जी (D) फत्ता जी [A]
98. 2011 की जनगणना के अनुसार, राजस्थान की कुल जनसंख्या में अनुसूचित जनजाति की जनसंख्या का प्रतिशत है -
 (A) 13.3 (B) 13.5
 (C) 16.9 (D) 14.8 [B]
99. 'पाक स्ट्रेट' अवस्थित है -
 (A) भारत और श्रीलंका के मध्य
 (B) भारत और मालदीव के मध्य
 (C) भारत और इण्डोनेशिया के मध्य
 (D) भारत और म्यानमार के मध्य [A]
100. राजस्थान में राज्य वित्त आयोग के प्रथम अध्यक्ष कौन थे?
 (A) के. के. गोयल (B) एस. के. घोष
 (C) हीरालाल देवपुरा (D) एम. सी. सुराणा [A]
101. निम्नलिखित में से किस समूह में ग्राफिकल फाइल एक्सटेंशन है?
 (A) टी.सी.पी., जे.पी.जी., बी.एम.पी.
 (B) जी.आई.एफ., टी.सी.ई., डब्ल्यू.एम.एफ.
 (C) जे.पी.जी., सी.पी.एक्स, जी.सी.एम.
 (D) जे.पी.जी., जी.आई.एफ., बी.एम.पी. [D]

102. एम.एस.-एक्सेल में निम्न में से कौनसा सही फॉर्मूला है?
 (A) =POWER (2#3) (B) =POWER (2,3)
 (C) =POWER (2*3) (D) =POWER (2^3) [B]
103. स्तम्भ-I तथा स्तम्भ-II का मिलान करें-
 स्तम्भ-I
 (A) बार कोड्स (B) ओ.एम.आर.
 (C) एम.आई.सी.आर. (D) क्यू.आर. कोड
 (e) ओ.सी.आर.
 स्तम्भ-II
 (1) वस्तुनिष्ठ प्रकार की परीक्षाएं
 (2) ऑनलाइन पेमेंट्स
 (3) डिपार्टमेंटल स्टोर के लेबल
 (4) बैंक के चेक
 (5) छपे हुए पेज का एडिटेबल टेक्स्ट में रूपान्तरण
 (A) (A)-(2), (B)-(4), (C)-(5), (D)-(1), (e)-(3)
 (B) (A)-(4), (B)-(1), (C)-(5), (D)-(3), (e)-(2)
 (C) (A)-(3), (B)-(1), (C)-(2), (D)-(5), (e)-(4)
 (D) (A)-(3), (B)-(1), (C)-(4), (D)-(2), (e)-(5) [D]
104. एम.एस.-वर्ड-2019 के संदर्भ में, अंतिम परिवर्तन के स्थान पर जाने के लिए, की स्ट्रोक है-
 (A) ऑल्ट + F6 (B) कन्ट्रोल + F7
 (C) कन्ट्रोल + शिफ्ट + F8 (D) शिफ्ट + F5 [D]
105. NTFS का मतलब है और इसे द्वारा विकसित किया गया था?
 (A) नेटवर्क टेक्नोलॉजी फाइल सिस्टम; इनटेल
 (B) नेटवर्क टेक्नोलॉजी फाइल सिस्टम; एप्पल
 (C) न्यू टेक्नोलॉजी फाइल सिस्टम; माइक्रोसॉफ्ट
 (D) न्यू टेक्नोलॉजी फाइल सिस्टम; एप्पल [C]
106. निम्न पर विचार करें-
 1. मीथेन 2. नाइट्रस ऑक्साइड
 3. हेलेनस
 निम्न में से कौन समतापमंडलीय ओजोन के हास के लिए उत्तरदायी है/हैं?
 (A) 1, 2 और 3 (B) केवल 3
 (C) केवल 1 (D) केवल 1 और 2 [B]
107. इसरो (ISRO) के बारे में सही कथन/कथनों का चयन कीजिए-
 (1) इसरो द्वारा पहले भारतीय उपग्रह का निर्माण किया गया और इसे 1975 में यू.एस.ए. (USA) द्वारा प्रक्षेपित किया गया।
 (2) एन्टिक्स कॉरपोरेशन इसरो की विपणन शाखा है।
 (3) इसरो की मास्टर कन्ट्रोल फेसिलिटी, हासन में स्थित है।
 (A) 2, 3 (B) 1, 3
 (C) 1, 2, 3 (D) 1, 2 [A]
108. लाई - फाई के बारे में निम्नलिखित कथनों पर विचार करें-
 (i) डेटा ट्रांसफर करने के लिए यह समान्य बल्ब का उपयोग करता है।
 (ii) यह तकनीक प्रकाश के दृश्यमान स्पेक्ट्रम का उपयोग करती है।
 (iii) लाई-फाई की गति वाई-फाई की तुलना में धीमी है।
 (iv) लाई-फाई, वाई-फाई से सस्ती तकनीकी होगी।
 सही वाक्य का चयन कीजिए-
 (A) (ii) और (iv) (B) (i) और (ii)
 (C) (iii) और (iv) (D) (ii) और (iii) [A]
109. यदि कोई वस्तु स्वतंत्र रूप से पृथ्वी पर गिरती है, तो उसकी कुल ऊर्जा-
 (A) पहले बढ़ती है, फिर घटती है।
 (B) स्थिर रहती है।
 (C) घटती है।
 (D) बढ़ती है। [B]

110. अल्पविराम के आकार के जीवाणु कहलाते हैं-
 (A) विब्रियो (B) स्पाइरिलम
 (C) बेसिलार्ड (D) कोकार्ड [A]
111. बच्चों में सबसे बड़ा होता है, लेकिन यौवन की शुरूआत के साथ, यह अंततः सिकुड़ जाता है और वसा द्वारा प्रतिस्थापित हो जाता है?
 (A) पिट्यूटरी ग्रंथि (B) पैराथाइरॉइड ग्रंथि
 (C) थाइमस (D) हाइपोथैलेमस [C]
112. जैव विविधता से सम्बन्धित सही कथन का चयन करें-
 (A) पृथ्वी पर जैव विविधता एक समान पाई जाती है।
 (B) जैव विविधता भूमध्य रेखा की ओर बढ़ती है।
 (C) उच्च हिमालयी क्षेत्रों में विश्व की सर्वाधिक जैव विविधता है।
 (D) जैव विविधता उच्चतर अक्षांशों की तरफ बढ़ती है। [B]
113. 'OTEC' का अर्थ है?
 (A) ओशन थर्मल एनर्जी कन्वर्शन
 (B) ऑइल एण्ड थर्मल एनर्जी कन्जर्वेशन
 (C) ऑइल एण्ड थर्मल एवोल्यूशन कन्वेन्शन
 (D) ओशन एण्ड टाइड इलेक्ट्रिक कन्जर्वेशन [A]
114. कॉलम (I) में दिए गए रासायनिक पदार्थों का कॉलम (II) में दिए गए उपयुक्त अनुप्रयोग से मिलान करें।
 कॉलम (I)
 (A) ब्लिचिंग पाउडर (B) बेकिंग सोडा
 (C) वॉशिंग सोडा (D) सोडियम क्लोराइड
 कॉलम (II)
 (i) कांच बनाने में (ii) H₂ और Cl₂ के उत्पादन में
 (iii) विरंजनीकरण में (iv) एंटासिड में
 (A) a - (iii), b - (iv), c - (i), d - (ii)
 (B) a - (ii), b - (i), c - (iv), d - (iii)
 (C) a - (i), b - (ii), c - (iii), d - (iv)
 (D) a - (iii), b - (ii), c - (iv), d - (i) [A]
115. दो शाखाओं वाले समानांतर परिपथ का प्रतिरोध 12 ओम है। यदि एक शाखा का प्रतिरोध 18 ओम है, तो दूसरी शाखा का प्रतिरोध क्या है?
 (A) 36 ओम (B) 18 ओम
 (C) 64 ओम (D) 48 ओम [A]
116. दिए गए विकल्पों में से दी गई श्रृंखला में गलत संख्या ज्ञात कीजिए?
 14, 39, 84, 155, 260
 (A) 260 (B) 155
 (C) 39 (D) 84 [A]
117. दी गई प्रश्न आकृति का सही दर्पण प्रतिबिम्ब चुनें जब दर्पण को रेखा AB पर रखा जाए-

प्रश्न आकृति







[A]

118. एक व्यापारी कुर्सी के अंकित मूल्य पर क्रमशः 20% एवं 10% की छुट देता है। यदि कुर्सी का मूल्य 2,000 रु. है, हो ग्राहक को कितना मूल्य चुकाना पड़ेगा?

- (A) 1,600 (B) 1,500
(C) 1,440 (D) 1,400 [C]

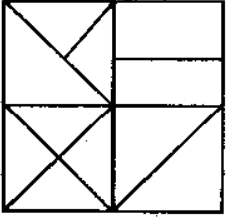
119. निम्नलिखित में से कौन-सा आरेख पेड़, सागौन और सैलामेंडर के बीच संबंध का प्रतिनिधित्व करता है?

- (A)  (B) 
(C)  (D)  [B]

120. 21 पुरुषों की एक पंक्ति में मनीष को दायीं ओर चार स्थान सरकाया गया। अब वह बायीं छोर से 12 वें स्थान पर है। पंक्ति में दायें छोर से उसका पूर्व में स्थान क्या था?

- (A) 12वीं (B) 14वीं
(C) 10वीं (D) 8वीं [B]

121. निम्न चित्र में कितने त्रिभुज हैं?



- (A) 14 (B) 16
(C) 13 (D) 15 [B]

122. राहुल बिंदु R से चलना शुरू करता है, जो बिंदु T के पश्चिम में 16 मी. है। बिंदु R से, वह 20 मी. दक्षिण की ओर चलता है, दायें मुड़ता है और 10 मी. चलता है। फिर वह दायें मुड़ता है, 6 मी. चलता है और बिंदु C पर रूक जाता है। गौरव बिंदु A से चलना शुरू करता है, जो बिंदु T के 8 मी. दक्षिण में है। बिंदु A से, वह 10 मी. पूर्व की ओर चलता है, दायें मुड़ता है और 6 मी. चलता है। फिर वह दायें मुड़ता है और 26 मी. चलता है और बिंदु B पर रूक जाता है। बिंदु C और बिंदु B के बीच की दूरी कितनी है?

- (A) 10 मी. (B) 12 मी.
(C) 15 मी. (D) 25 मी. [A]

123. यदि हम शिक्षक को छोड़ दे, तो 40 छात्रों और एक शिक्षक की कक्षा की औसत आयु 0.5 वर्ष कम हो जाती है। यदि प्रारंभिक औसत आयु 18 वर्ष है, तो शिक्षक की आयु क्या है?

- (A) 38 वर्ष (B) 41 वर्ष
(C) 39 वर्ष (D) 40 वर्ष [A]

124. कथन - गुणवत्ता का एक मूल्य टैग होता है। भारत शिक्षा के लिए बहुत सारा धन आवंटित कर रहा है। निष्कर्ष : I भारत में शिक्षा की गुणवत्ता में जल्द ही सुधार होगा।

II अकेले वित्त पोषण शिक्षा की गुणवत्ता को बढ़ा सकता है।

- (A) केवल निष्कर्ष I अनुसरण करता है।
(B) न तो I और ना ही II अनुसरण करता है।
(C) I और II दोनों अनुसरण करते हैं।
(D) केवल निष्कर्ष II अनुसरण करता है। [A]

125. A, B की बहन है। C, B की माता है। D, C का पिता है। E, D की माता है। A किस प्रकार D से संबंधित है?

- (A) पौत्री (B) दादा
(C) पुत्री (D) दादी [A]

126. दिए गए विकल्पों में से '?' के स्थान पर संबंधित अक्षरों को चुनिए- HJLN : SQOM :: DFHJ : ?

- (A) WUSQ (B) XRQS
(C) XQSQ (D) VRQS [A]

127. यदि A की आय, B की आय से 3/5 गुना है तथा C की आय, B की आय से 6/5 गुना है, तो C की आय का A की आय से अनुपात है-

- (A) 1:1 (B) 1:2
(C) 2:1 (D) 3:1 [C]

128. किसी सांकेतिक भाषा में यदि TRIPPLE का अर्थ DMOQHSS है, तो उसी भाषा में VICTORY का अर्थ क्या होगा?

- (A) XSNUBJU (B) UJBUNSX
(C) ZXPSPDHV (D) WHDSPQZ [D]

129. दो उम्मीदवारों ने एक चुनाव लड़ा। उनमें से एक ने कुल डाले गये मतों के 65% मत प्राप्त किये और 420 मतों से विजयी हो गया। यदि कोई मत अमान्य घोषित नहीं किया गया, तो डाले गए कुल मतों की संख्या क्या है?

- (A) 1300 (B) 1500
(C) 1400 (D) 1200 [C]

130. एक निश्चित राशि पर 5% की दर से दो वर्षों के लिए साधारण ब्याज और चक्रवृद्धि ब्याज के बीच का अंतर 25 रु. है, राशि क्या है?

- (A) 15,000 रु. (B) 10,000 रु.
(C) 8000 रु. (D) 9000 रु. [B]

131. किस विकल्प में 'Allocation' शब्द का हिन्दी पारिभाषिक शब्द सही है?

- (A) निष्ठा (B) नियतन
(C) समायोजन (D) संबंधन [B]

132. असंगत विकल्प का चयन कीजिए-

- (A) लडके मैदान में दौड़ रहे हैं। - अकर्मक क्रिया
(B) पुलिस ने चोर पकड़वाया। - प्रेरणार्थक क्रिया
(C) उसने सेब खाया। - सकर्मक क्रिया
(D) माता जी प्रतिदिन बाग में जाते हैं। - रंजक क्रिया [B]

133. अयादि स्वर संधि की दृष्टि से असुमेलित विकल्प का चयन कीजिए-

- (A) विनै + अक = विनयक (B) लो + इत्र = लवित्र
(C) गो + एषणा = गवेषणा (D) विधे + अक = विधायक [D]

134. विलोम शब्द की दृष्टि से संगत विकल्प का चयन कीजिए?

- (A) अधित्यका-उपत्यका, आगम-अनागत, अभ्र-अन्य
(B) ग्राम-ग्राम्य, उदात्त-अनुदात्त, ऐश्वर्य-अनैश्वर्य
(C) आज्ञा-अवज्ञा, अधुना-नूतन-अस्ति-नास्ति
(D) अधम-उत्तम, अज्ञ-विज्ञ, अग्र-पश्च [D]

135. किस विकल्प में तत्पुरुष समास का प्रयोग नहीं हुआ है?

- (A) सेवानिवृत्त (B) ख्यातिप्राप्त
(C) अंधविश्वास (D) शपथपत्र [C]

136. नाटक के अंत में प्रयुक्त मांगलिक पद के लिए सार्थक शब्द है?

- (A) मंगलवाक्य (B) विदूषक
(C) व्याजवाक्य (D) भरतवाक्य [A]

137. निम्न में से कौनसा शब्द संज्ञा से निर्मित विशेषण नहीं है?

- (A) मानवीय (B) दानवीय
(C) चिंतन (D) निर्दिष्ट [B]

138. निम्न में से किस विकल्प के सभी शब्दों में उपसर्ग व प्रत्यय दोनों का प्रयोग हुआ है?

- (A) फेनिल, शामिल, जटिल
(B) विचारणीय, पारिवारिक, औत्पत्तिक
(C) अवगत, अवलंब, अवसित
(D) अवधि, अवज्ञा, अवधूत [B]

139. व्यंजन वर्णों के संबंध में कौन-सा विकल्प सुमेलित नहीं है?

- (A) य, व - अर्धस्वर (B) श, ष - संघर्षहीन
(C) च, छ - स्पर्श संघर्षी (D) ग, घ - स्पर्श व्यंजन [B]

140. निम्न में से शुद्ध वाक्य का चयन कीजिए-

- (A) भाषा में धीरे-धीरे शब्द लोप हो जाते हैं।
(B) उसे परमसत्ता पर विश्वास है।
(C) उज्जैन में अनेक दर्शनीय स्थल देखने योग्य हैं।
(D) उसने मेरे शब्दों पर ध्यान नहीं दिया। [B]

Direction (141 to 143): Read the given passage and answer the questions that follow-

Despite the frustrating years of dragging children out of bed and persuading them to go to school, young children have an internal drive to learn about their world, and become industrious and productive individuals. Their educational eagerness and curiosity can either be stifled or encouraged by parents, teachers and other adults. Aware parents can encourage their children's development of important life skills. Besides teaching them to read and write, school and home environments teach children cooperation and interdependence. Children also engage in important play rituals (like playing with dolls or cops and robbers), which prepare them for adolescence and adulthood. Supportive parents can promote crucial learning of life skills. Above all, school-age children struggle with feeling of inferiority and incompetence when they compare themselves with their peers. If they don't fit in, they might feel insignificant. Loving and accepting parents help these children develop the confidence to create a future where they can thrive and feel good about themselves.

141. Some games prepare the children for:

- (A) competition
(B) adolescence and adulthood
(C) good health
(D) Academics [B]

142. The synonym of the word 'stifled' given in the passage is -

- (A) suppressed (B) amplified
(C) inspired (D) enhanced [A]

143. The antonym of the word 'curiosity' given in the passage is-

- (A) apathy (B) prying
(C) inquisitiveness (D) intrusiveness [C]

144. Choose the correct Hindi translation of given sentence-

Mom, could you put my books inside the bag?

- (A) माँ, क्या मेरे बैग में मेरी किताबें आपने रख दी है?
(B) माँ, क्या आपने मेरी किताबें बैग में रख दी है?
(C) माँ, क्या मेरी किताबें आप मेरे बैग में रख सकती हो?
(D) माँ, क्या आप मेरी किताबें बैग में रख सकती हो? [D]

145. Which of the following is/are the correct statement/s regarding letter writing?

(I) 'Your's Faithfully is used for ending a formal letter.

(II) The right sequence of writing a letter to the editor is - sender's address, receiver's address, subject, salutation, Body of letter, Subscription, Date.

(III) The right format of writing a date in all formal letter is '30th May, 2022' instead of '30/05/2022'

(IV) 'Yours Truly' is used for ending an informal letter.

Code -

- (A) Only I, III and IV are Correct
(B) Only III is Correct
(C) Only II, III and IV are Correct
(D) Only III and IV are Correct [B]

146. Choose the correct answer from the given options-

The teacher said to the students, "Take back your books" (Change into indirect speech)

- (A) The teacher asked the students to take back their books.
(B) The teacher ordered the students to take back your books.
(C) The teacher told the students to take back books.
(D) The teacher asked the students to tack back your books. [A]

147. Give one word substitute for A large number of fish swimming together.

- (A) shoal (B) troupe
(C) litter (D) swarm [A]

148. Choose the correct option:

I am going to say at hoe because I am feeling under the weather today.

- (A) unhappy (B) depressed
(C) sick (D) irritated [C]

149. Choose the correct option:

They made me laugh. (Change into passive voice)

- (A) I were made to laugh by them.
(B) I was made to laugh.
(C) They made too laugh by me.
(D) They were made to laugh by me. [B]

150. Fill in the blank speses in the given sentence choosing correct answer from the given options?

"..... tiger is Fierce wild animal"

- (A) the, the (B) a, a
(C) a, the (D) the, a [D]