


NAS प्रश्न बैंक
कक्षा-5
विषय – पर्यावरण अध्ययन

पर्यावरण अध्ययन

- तितली पौधे के किस भाग की ओर आकर्षित होती है—
 (क) जड़ (ख) फल (ग) फूल (घ) तना
- अनु को गन्ना बहुत पसंद है। बताओं गन्ना पौधे का कौनसा भाग है ?
 (क) जड़ (ख) पत्ती (ग) फल (घ) तना
- भामाशाह कार्ड धारी परिवार को सरकार की कई योजनाओं का लाभ मिलता है। इस कार्य में परिवार की महिला ही मुखिया होती है। इससे महिलाओं पर क्या प्रभाव पड़ेगा ?
 (क) महिलाएँ अधिक कार्य करेंगी। (ख) महिलाएँ सशक्त बनेंगी।
 (ग) महिलाएँ कमजोर होंगी। (घ) महिलाओं की परेशानी बढ़ेगी।
- आपके पिता के पिता आपके क्या लगते हैं ?
 (क) चाचा (ख) मामा (ग) दादा (घ) भाई
- एम्बुलेंस को बुलाने के लिए किस नम्बर पर फोन करना चाहिए—
 (क) 100 (ख) 101 (ग) 108 (घ) 105
- खेल के दौरान आप आउट नहीं है आप की अपील सुनने के बाद भी रेफरी आप को आउट कर देता है तो आप क्या करेंगे—
 (क) रेफरी से झगड़ा करेंगे।
 (ख) रेफरी के फैसले को मानकर फिर खेलने के मौके का इंतजार करेंगे।
 (ग) रेफरी को खेल के बाद सजा देंगे।
 (घ) आगे से खेल खेलना बंद कर देंगे।
- छुई—मुई पौधे की विशेषता होती है—
 (क) छूने पर पत्तियाँ सिकुड़ती हैं। (ख) विशेष गंध छोड़ता है।
 (ग) छूने पर पत्तियाँ झड़ जाती हैं। (घ) छूने पर पत्तियाँ फैल जाती हैं।
- निम्न में से किस स्थिति में पौधा जल्दी वृद्धि करेगा—



(अ) खुले स्थान में



(ब) बंद कमरे में

(क) अ

(ख) ब

(ग) अ व ब दोनों

(घ) दोनों में से कोई नहीं

9. खराब खाने की पहचान कैसे करोगे—
 (क) पानी में घोलकर (ख) सूँघकर एवं चखकर
 (ग) गर्म कर के (घ) धूप में रखकर
10. निम्न में से किस पौधे को लगाने के लिए आप उसकी कलम तैयार करेंगे—
 (क) आलू (ख) पत्थर चट्टा (ग) गुलाब (घ) चना
11. पुलिस अपराधी की पहचान के लिए कौनसे जानवर की मदद लेती है—
 (क) कुत्ता (ख) बिल्ली (ग) घोड़ा (घ) चूहा
12. रात्रि में चमगादड़ किसकी सहायता से आसानी से उड़ता है—
 (क) प्रकाश की सहायता से (ख) गंध की सहायता से
 (ग) प्रतिध्वनि की सहायता से (घ) देखकर
13. अगर आप जंगल में भ्रमण हेतु गए हैं तो पीने के लिए पानी कैसे साफ करेंगे—
 (क) धूप में रखकर (ख) छानकर (ग) छाया में रखकर (घ) ठंडा कर के
14. वायु प्रदूषण से किस रोग के होने की सम्भावना सर्वाधिक होती है—
 (क) कैंसर (ख) मलेरिया (ग) श्वास संबंधी (घ) हैजा
15. आप चौराहे को पार करना चाहते हैं और लाल बत्ती का संकेत है तो आप क्या करेंगे—
 (क) चलना शुरू करेंगे। (ख) रुक जाएँगे।
 (ग) दूसरे रास्ते से निकल जाएँगे। (घ) ध्यान नहीं देंगे।
16. मछली कौनसे अंग से श्वसन करती है—
 (क) त्वचा द्वारा (ख) गलफडों द्वारा (ग) नाक द्वारा (घ) मुँह द्वारा
17. कौनसा पौधा जल में ही उगता है—
 (क) कमल (ख) गुलाब (ग) चमेली (घ) सूरजमुखी
18. किसी बालक के सफेद रंग की दस्त, मूत्र पीला आना, आँखों व नाखून का पीला होना, उल्टियाँ होना आदि लक्षण हैं तो उसे कौनसा रोग हुआ है—
 (क) हैजा (ख) पोलियो (ग) पीलिया (घ) मलेरिया
19. अतिसार का मुख्य लक्षण है—
 (क) बुखार रहना (ख) आँखों व नाखून का पीला होना
 (ग) दिन में 4-5 बार से अधिक दस्त होना (घ) भूख कम लगना

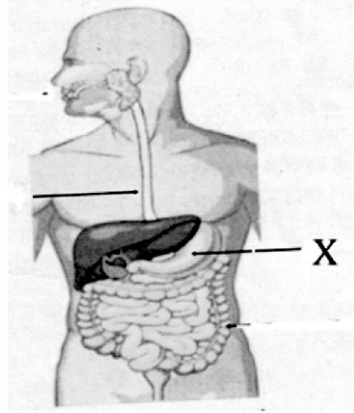
20. जल में घुलनशील पदार्थ है—

(क) नमक (ख) चॉक का बुरादा (ग) रेत (घ) लकड़ी का बुरादा

21. कौनसी वस्तु को लीटर में नापते हैं ?

(क) शक्कर (ख) दूध (ग) गेहूँ (घ) चना

22. दिए गए चित्र में X अंग है—



(क) ग्रसिका (ख) आँत (ग) आमाशय (घ) मलाशय

23. एल्बेंडाजोल गोली कौनसी बीमारी के उपचार हेतु दी जाती है—

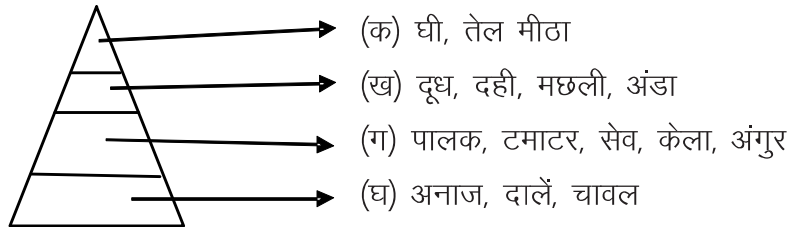
(क) मलेरिया (ख) कृमि नियंत्रण (ग) एनिमिया (घ) पीलिया

24. कमला का मन पढ़ाई में नहीं लगता है उसके शरीर में खून की कमी हो गई है। डॉक्टर उसे निम्न में से कौनसी दवाई खाने को देंगे।

(क) क्रोसिन (ख) आयरन फोलिक एसिड (IFA)

(ग) एनासिन (घ) कैल्सियम


25. खाद्य पिरामिड का चित्र देखकर बताएं कि हमें कौनसी वस्तु सबसे कम खानी चाहिए—



26. खाने की कौनसी वस्तु एक दिन में खराब हो जाती है—

(क) दाल (ख) अचार (ग) मुरब्बा (घ) सॉस

27. सोहन के विद्यालय में पीला दिवस मनाया जाना है वह निम्नलिखित कौन से समूह की वस्तुएँ विद्यालय में लेकर जाएगा—
- (क) सेब, सरसों, भिंडी (ख) सीताफल, चमेली, लौकी
(ग) संतरे, सरसो का फूल, कद्दू (घ) अंगूर, गुलाब, पालक
28. 'काई' है—
- (क) एक जानवर (ख) एक पेड़
(ग) पानी में उगने वाला सूक्ष्म पौधा (घ) एक खेल
29. 'चिपको आन्दोलन' का संबंध है—
- (क) जल संरक्षण से (ख) वन संरक्षण से
(ग) जीव संरक्षण से (घ) खनिज संरक्षण से
30. आपके आस-पास किस वृक्ष की पूजा की जाती है—
- (क) नीम (ख) पीपल (ग) आम (घ) अमरुद
31. रणथम्भौर राष्ट्रीय उद्यान किस जिले में स्थित है—
- (क) भरतपुर (ख) अलवर (ग) सवाईमाधोपुर (घ) जैसलमेर
32. अमृता देवी ने किस वृक्ष को बचाने हेतु बलिदान दिया—
- (क) पीपल (ख) खेजड़ी (ग) आम (घ) नीम
33. अमृता देवी ने वृक्ष को बचाने हेतु अपना बलिदान दिया क्योंकि—
- (क) उसकी सैनिकों से पुरानी दुश्मनी थी। (ख) वह जीवन से दुखी थी।
(ग) वह प्रसिद्ध होना चाहती थी। (घ) वह वृक्ष को बचाना चाहती थी।
34. प्राणवायु किस गैस को कहते हैं—
- (क) कार्बन-डाइ-ऑक्साइड (ख) ऑक्सीजन
(ग) नाइट्रोजन (घ) हाइड्रोजन
35. चित्रानुसार इस मछली की आकृति कैसी है—



- (क) गोल (ख) अंडाकार (ग) नौकाकार (घ) आयताकार

36. आपकी माताजी ने आपसे बाजार से आलू लाने के लिए कहा तो आप किस माप से लाएँगे—
 (क) लीटर में (ख) किलोमीटर में (ग) किलोग्राम (घ) मील
37. राजस्थान के मानचित्र में जैसलमेर जिले की सीमा से लगने वाले कोई दो जिलों का समूह है—



- (क) जोधपुर, बाड़मेर (ख) जालौर, नागौर (ग) सिरोंही, पाली (घ) उदयपुर, बीकानेर
38. दूध में पानी मिलाने पर उसका रंग कैसा हो जायेगा—
 (क) पीला हो जायेगा (ख) वैसा ही रहेगा (ग) हरा हो जायेगा (घ) लाल हो जायेगा
39. निम्न में से कौनसी वस्तु तालाब के पानी में डूब जायेगी—
 (क) पेड़ का तना (ख) फूलों की माला (ग) लोहे की कील (घ) प्लास्टिक की गेंद
40. स्वच्छ भारत अभियान किस महापुरुष के जन्म-दिवस पर प्रारंभ किया गया—
 (क) जवाहर लाल नेहरू (ख) महात्मा गांधी
 (ग) सरदार वल्लभ भाई पटेल (घ) कलाम
41. स्वस्थ रहने के लिए निम्न में से प्रतिकूल (अनुपयुक्त) परिस्थिति है—
 (क) रोज नहाना (ख) व्यायाम करना (ग) पूरी नींद लेना (घ) अत्यधिक खाना
42. प्लास्टिक का निस्तारण का सबसे सही तरीका है—
 (क) जमीन में दबा कर (ख) जलाकर (ग) पानी में बहाकर (घ) पुनः चक्रण द्वारा
43. इंडोर खेल है—
 (क) फुटबॉल (ख) हॉकी (ग) टेबिल टेनिस (घ) क्रिकेट

44. सूर्य नमस्कार में आसनों की संख्या है—

(क) 4

(ख) 8

(ग) 12

(घ) 15

45. अंतर्राष्ट्रीय योग दिवस मनाया जाता है—

(क) 21 जून को

(ख) 2 अक्टूबर को

(ग) 15 अगस्त को

(घ) 22 दिसम्बर को

46. राजू फूँक मारकर बहुत सुरीली धुन बजाता है बताओं वह कौनसा वाद्य—यंत्र बजाता है—

(क) हारमोनियम

(ख) तबला

(ग) बाँसुरी

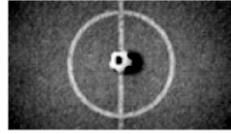
(घ) ड्रम

47. चित्र देखकर बताइए कौनसा मिलान सही है—

(क) फुटबॉल



(ख) शतरंज



(ग) तीरंदाजी



(घ) हॉकी



48. गाजर के पौधे का कौनसा भाग भोजन के रूप में काम आता है—

(क) तना

(ख) पत्ती

(ग) जड़

(घ) फूल

49. निम्न अ एवं ब समूह में कौन सही सुमेलित है—

अ

1. तैराकी
2. तीरंदाजी
3. मुक्केबाजी
4. क्रिकेट

ब

- सचिन तेंदुलकर
- लिम्बाराम
- भक्ति शर्मा
- मेरीकॉम

(क) 1

(ख) 2

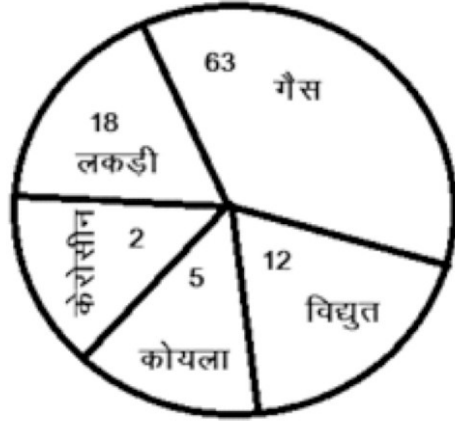
(ग) 3

(घ) 4

50. पत्ती के द्वारा उगाया जाने वाला पौधा कौनसा है—

(क) मूँगफली (ख) आलू (ग) पत्थर चट्टा (घ) गुलाब

51. निम्न पाई-चार्ट को देखकर बताइए कि घरेलू उपयोग के लिए किस ईंधन का उपयोग सर्वाधिक हुआ है?



(क) लकड़ी (ख) कोयला (ग) विद्युत (घ) गैस

52. उपर्युक्त पाई-चार्ट को देखकर बताइए कि घरेलू उपयोग में किस ईंधन का उपयोग न्यूनतम रहा—

(क) लकड़ी (ख) कोयला (ग) केरोसीन (घ) गैस

53. निम्न में से देशी पौधा कौनसा है—

(क) यूकेलिप्टस (ख) लैंटाना (ग) गाजर घास (घ) नीम

54. बिना बीज के उगने वाला पौधा कौनसा है—

(क) आम (ख) नीम (ग) गुलाब (घ) जामुन

55. ऐसा कौनसा पौधा है जो तालाब की पूरी सतह को बहुत तेजी से घेर लेता है—

(क) कमल (ख) सिंघाड़ा (ग) लिली (घ) जलकुंभी

56. सूर्य के सबसे नजदीक ग्रह कौनसा है—

(क) पृथ्वी (ख) मंगल (ग) बुध (घ) अरुण

57. मटर को संरक्षित करने का उपाय कौनसा है—

(क) मुरब्बा बनाकर (ख) धूप में सुखाकर (ग) शक्कर मिलाकर (घ) सिरका डालकर

58. जोधपुर के किले को किस नाम से जाना जाता है—

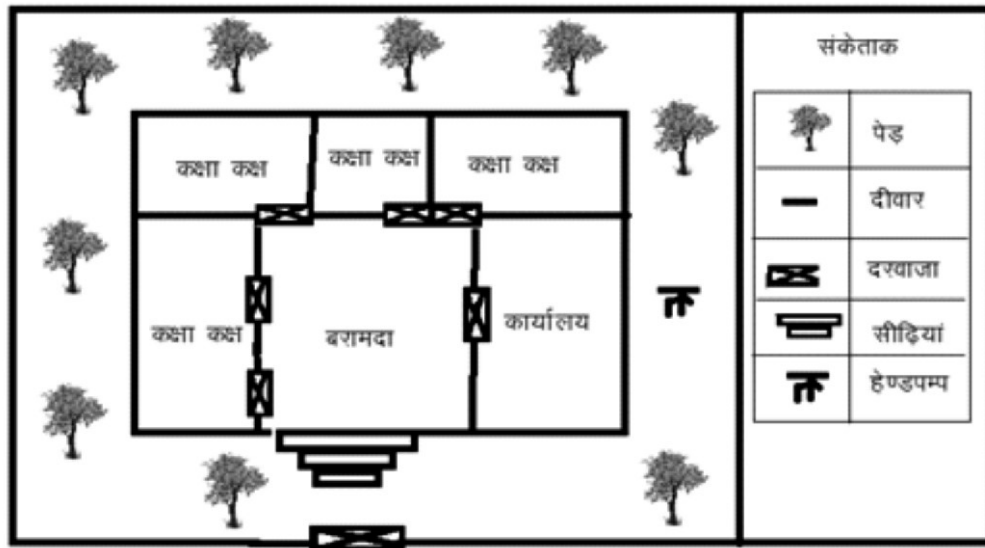
(क) सोनार किला (ख) मेहरानगढ़ (ग) लाल किला (घ) जयगढ़

59. रसोई में कुमुद को दो डब्बे में एक जैसे दिखने वाले चूर्ण मिले। उसे यह जानना है कि कौन-सा खारा है। बताओ वह किस (अंग) ज्ञानेन्द्रिय का प्रयोग करेगी ?

(क) आँख (ख) नाक (ग) कान (घ) जीभ

60. संजीव को खो-खो की टीम तैयार करनी है बताओ इसके लिए वह कितने खिलाड़ियों का चयन करेगा ?
 (क) 7 (ख) 8 (ग) 9 (घ) 10
61. चिकित्सा पेटी में होता है—
 (क) दर्द निवारक दवाएँ (ख) परिणाम तालिका (ग) फार्म की फाईल (घ) सीटी
62. राजस्थान का राज्य वृक्ष है—
 (क) नीम (ख) बरगद (ग) खेजड़ी (घ) नागफनी
63. पेड़-पौधे के भूमि के अंदर वाले भाग को कहते हैं—
 (क) तना (ख) पत्ती (ग) जड़ (घ) फल
64. निम्न में से बच्चे देने वाला जानवर है—
 (क) चींटी (ख) चमगादड़ (ग) गिद्ध (घ) सांप
65. आप नशा मुक्ति अभियान के सदस्य हैं आप अपने माता-पिता के साथ बस द्वारा जा रहे हैं। एक व्यक्ति को आपने सिगरेट पीते हुए देखा। आप क्या करेंगे ?
 (क) उससे दूर जा कर बैठ जाएँगे। (ख) उस व्यक्ति को सिगरेट पीने से मना करेंगे।
 (ग) अनदेखा करेंगे। (घ) बस से उतर जाएँगे।
66. पानी का भाप बनकर उड़ना क्या कहलाता है—
 (क) वाष्पीकरण (ख) द्रवीकरण (ग) संघनन (घ) जलीय करण
67. हरि के घर के बाहर एक पेड़ है जिसके तने को रोज़ एक पक्षी अपनी चोंच से खोद कर घोंसला बना रहा है। वह पक्षी है—
 (क) बाज (ख) चील (ग) कठफोड़वा (घ) कबूतर
68. पहली बार निकले दाँत को कहते हैं—
 (क) स्थायी दाँत (ख) दूध के दाँत (ग) दाढ (घ) चाय के दाँत
69. हमारा राष्ट्रीय खेल है—
 (क) हॉकी (ख) क्रिकेट (ग) कबड्डी (घ) फुटबॉल
70. विद्यालय में राष्ट्रीय पर्व पर ध्वजारोहण किया जाता है—
 (क) दीपावली, होली (ख) ईद, क्रिसमस
 (ग) 15 अगस्त, 26 जनवरी (घ) गांधी जयंती
71. किस उम्र तक के बालकों से श्रम नहीं करवा सकते हैं—
 (क) 12 वर्ष (ख) 18 वर्ष (ग) 14 वर्ष (घ) 21 वर्ष

72. अगर आपको मरुस्थल में यात्रा करनी है तो किस जंतु को साथ में लेना उपयोगी होगा—
 (क) गाय (ख) बैल (ग) ऊँट (घ) हाथी
73. अमेरीका से आने वाले अल्बर्ट को भारत में खरीददारी करनी है बताओं इस कार्य हेतु उसे किस मुद्रा की आवश्यकता होगी—
 (क) डॉलर (ख) पौंड (ग) रूपया (घ) टका
74. राजस्थान में बोली जाने वाली भाषा कौनसी है—
 (क) मराठी (ख) मारवाड़ी (ग) बंगाली (घ) गुजराती
75. राकेश दिल्ली से 2200 कि.मी. दूरी की यात्रा पूरी कर कुछ ही घंटों में चेन्नई पहुँच गया बताओ उसने किस साधन से यात्रा की होगी—
 (क) बस (ख) रेलगाड़ी (ग) हवाई जहाज (घ) नाव
76. झीलों की नगरी किस शहर को कहते हैं—
 (क) उदयपुर (ख) जयपुर (ग) जोधपुर (घ) जैसलमेर
77. महाराणा प्रताप और अकबर के बीच युद्ध कौनसे स्थान पर हुआ—
 (क) चित्तौड़ (ख) राजसमंद (ग) हल्दी घाटी (घ) सज्जनगढ़



78. ऊपर दिये गये विद्यालय के चित्र को देखकर बताइये की विद्यालय की बाउण्ड्री में कितने वृक्ष हैं—
 (क) 5 (ख) 6 (ग) 9 (घ) 10
79. ऊपर दिये गये चित्र को देखकर बताइये कि विद्यालय में कितने कक्षा-कक्षा हैं—
 (क) 4 (ख) 6 (ग) 8 (घ) 5

80. ऊपर दिये गये चित्र को देखकर बताइये कि कक्षा-कक्ष के कुल कितने दरवाजे हैं—
 (क) 5 (ख) 6 (ग) 7 (घ) 8
81. जोधपुर शहर को कौनसी नगरी के नाम से जाना जाता है—
 (क) सूर्य नगरी (ख) झीलों की नगरी (ग) गुलाबी नगरी (घ) स्वर्ण नगरी
82. शैक्षिक उन्नयन के लिए किस प्रकार का भ्रमण किया जाता है—
 क) धार्मिक भ्रमण (ख) सामाजिक भ्रमण (ग) शैक्षिक भ्रमण (घ) व्यापारिक भ्रमण
83. गौतम फरवरी माह में जैसलमेर भ्रमण पर गया। वहाँ उसने किस उत्सव में भाग लिया होगा—
 (क) गरबा महोत्सव (ख) गणगौर महोत्सव (ग) मरू महोत्सव (घ) गणपति महोत्सव
84. रोहित को अपने सूती वस्त्र मिल के लिए कौन से कच्चे माल को खरीदने की जरूरत होगी—
 (क) कपास (ख) रेशम (ग) जूट (घ) ऊन
85. ऐसे वस्त्र का नाम बताइये जो बिना सिलाई किए पहना जाता है—
 (क) कमीज (ख) पेंट (ग) कुर्ता (घ) धोती
86. अमन के पिता रेशम के कीट पालते हैं बताओ उनके बागान में कौनसे वृक्ष होने चाहिए—
 (क) नीम (ख) पीपल (ग) शहतूत (घ) बरगद
87. गांधी जी ने कौनसे वस्त्र को पहनने पर अधिक महत्व दिया—
 (क) रेशमी (ख) खादी (ग) ऊनी (घ) जूट
88. नयन देखते, चाँद सितारे,
 जीभ सदा लेती चटखारे,
 कान सुना करते हैं ढम-ढम
 नाक सूँघती, गंध-सुगंध
 हाथ बताते, चाय गरम
 पाँचों ज्ञानेन्द्रियों से पहचाने हम

उपर्युक्त पंक्तियों को पढ़कर बताइए कौनसी ज्ञानेन्द्री गंध-सुगंध पहचानने के काम आती है—

- (क) कान (ख) नाक (ग) आँख (घ) जीभ

89. निम्न चित्र को देखकर बताइए कि किस पात्र में पानी का स्तर बढ़ जायेगा—

अ



एक चम्मच नमक
घोलने पर

(क) अ

ब



एक चम्मच पिसा
गुड़ घोलने पर

(ख) ब

स



एक चम्मच शक्कर
घोलने पर

(ग) स

द



एक चम्मच
रेत घोलने पर

(घ) द

90. निम्नलिखित में से किस समूह की जड़े भोजन के रूप में उपयोग में ली जाती है—
 (क) चावल, गाजर, मूली (ख) गाजर, मूली, प्याज
 (ग) सेब, आम, शकरकंद (घ) प्याज, आलू, बाजरा
91. एडीज मच्छर के काटने से कौनसा रोग होता है—
 (क) मलेरिया (ख) डेंगू (ग) कृमि रोग (घ) पीलिया
92. सड़क के एक ओर एक वृद्ध पुरुष बार-बार सड़क पार करने की कोशिश करता है, लेकिन यातायात अधिक होने के कारण वह सड़क पार नहीं कर पाता यह देखकर आप क्या करेंगे—
 (क) वहाँ से सीधे निकल जाएँगे। (ख) उसे अनदेखा कर देंगे।
 (ग) यह देखकर हँसेंगे। (घ) उसका हाथ पकड़कर उसे सड़क पार कराएँगे।
93. किसी क्षेत्र में भारी बारिश की चेतावनी कौनसा विभाग देता है—
 (क) पुलिस विभाग (ख) राजस्व विभाग (ग) डाक विभाग (घ) मौसम विभाग
94. नीचे दिये गये मानचित्र को देखकर बताइए कि एशिया के दक्षिण में कौनसा महासागर है—



- (क) हिंद महासागर (ख) आर्कटिक महासागर
 (ग) अटलांटिक महासागर (घ) प्रशांत महासागर
95. गाड़ियों से निकलने वाला धुआँ किसका कारण बनता है—
 (क) जल प्रदूषण का (ख) वायु प्रदूषण का (ग) ध्वनि प्रदूषण का (घ) मृदा प्रदूषण का
96. महारानी पद्मिनी ने किस जिले में जौहर किया था—
 (क) अजमेर में (ख) उदयपुर में (ग) चित्तौड़ में (घ) जयपुर में

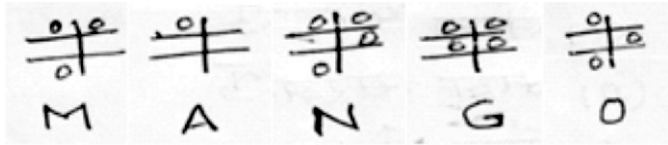
97. दुपहिया वाहन चलाते समय क्या ध्यान रखना चाहिए—
 (क) सीट बेल्ट बाँधना चाहिए। (ख) हेलमेट पहनना चाहिए।
 (ग) मोबाईल पर बात करते रहना चाहिए। (घ) सड़क के दाँये तरफ चलना चाहिए।
98. भूकम्प आने पर तुरन्त क्या करना चाहिए—
 (क) जोर-जोर से चिल्लाना चाहिए (ख) प्रार्थना करते रहना चाहिए
 (ग) रोना शुरू कर देना चाहिए (घ) घर के बाहर खुले में निकल जाना चाहिए
99. पंतजलि ऋषि के अष्टांग योग के तीन अंगों का समूह है—
 (क) आसन, प्राणायाम तीरदाजी (ख) यम, नियम, लम्बी कूद
 (ग) यम, नियम, आसन (घ) ध्यान, समाधि, दौड़
100. अगर आप खेत जोतने जा रहे हैं तो निम्न में से अपने साथ क्या ले जाएँगे ?
 (क) कैंची (ख) आरी (ग) हथौड़ा (घ) हल
101. निम्नांकित में से किस पशु से ऊन प्राप्त होती है—
 (क) गाय (ख) भेड़ (ग) गधा (घ) कुत्ता
102. अंडे देने का कार्य कौनसी चींटी करती है—
 (क) श्रमिक चींटी (ख) सैनिक चींटी (ग) रानी चींटी (घ) नर चींटी
103. समुद्री यात्रा के दौरान रात में आप किस दिशा में जा रहे हैं, यह जानने के लिए निम्न में से क्या सहायक होगा—
 (क) चंद्रमा (ख) पुच्छल तारा (ग) शुक ग्रह (घ) ध्रुव तारा
104. कल्पना चावला को सम्मान से याद किया जाता है क्योंकि—
 (क) वह हवाई जहाज उड़ाने वाली प्रथम महिला थी।
 (ख) वह माउंट एवरेस्ट पर चढ़ने वाली प्रथम महिला थी।
 (ग) उन्होंने तारे की खोज की थी।
 (घ) वह प्रथम भारतीय महिला अंतरिक्ष यात्री थी।
105. कोटा बैराज किस नदी पर बना है—
 (क) चंबल नदी पर (ख) माही नदी पर (ग) गंगा नदी पर (घ) यमुना नदी पर
106. आनुवांशिकी के ज्ञान से हमने कृषि क्षेत्र में बहुत प्रगति की है इसका श्रेय किस वैज्ञानिक को जाता है—
 (क) चार्ल्स डार्विन (ख) ग्रेगर जॉन मेंडल (ग) होमी जहाँगीर भाभा (घ) सी.पी. रमन

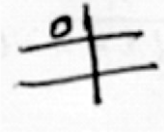
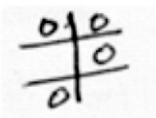
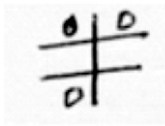
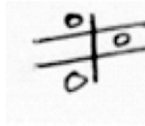
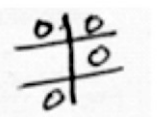
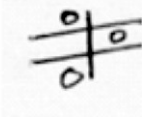
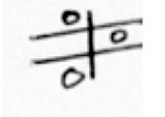
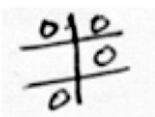
107. चित्र में दिखाए गए मकान को क्या कहा जाता है—



- (क) झोंपड़ी (ख) इग्लू (ग) बंगला (घ) महल
108. इग्लू कौनसे स्थान पर बनाए जाते हैं—
(क) रेगिस्तान में (ख) बर्फीले स्थानों पर (ग) समुद्री स्थानों में (घ) घने वन क्षेत्र में
109. समीरा के जिले को सुखाग्रस्त जिला घोषित किया क्योंकि वहाँ—
(क) फसलें सूख गई थी। (ख) लोग गाँव छोड़कर जा रहे थे।
(ग) गर्मी ज्यादा बढ़ गई थी। (घ) महँगाई बढ़ गई थी।
110. अंकुरित आलू के कटे हुए हिस्से को मिट्टी में दबाने से आलू का पौधा बनता है वैसे ही गुलाब का पौधा लगाने के लिए पौधे का कौनसा भाग लगाया जाएगा—
(क) जड़ (ख) शाखा (ग) पत्ती (घ) फूल
111. परिवार में फैसला लेने का सही तरीका क्या है?
(क) घर का मुखिया फैसला ले बाकी सभी मानें
(ख) संबंधित व्यक्ति फैसला ले और बाकी सभी मानें
(ग) सभी की राय लें और फिर फैसला लें
(घ) बच्चों की राय अनुसार फैसला लें।
112. हमारे शरीर की ज्ञानेन्द्रियों की संख्या कितनी है—
(क) चार (ख) पाँच (ग) छह (घ) तीन
113. अजय ने अपने मिल के लिए 10 टन सूरजमुखी के बीज खरीदे हैं उसकी मिल में किसका उत्पादन हो रहा होगा ?
(क) तेल (ख) दवाई (ग) कपड़ा (घ) रसायन
114. आप प्रतिद्वन्द्वी टीम के घायल साथी की मदद क्यों करते हैं—
(क) सहयोग की भावना के कारण (ख) दल प्रभारी होने के कारण
(ग) एकाकीपन के कारण (घ) एहसान जताने हेतु

124. पिता-पुत्र की शक्ल, आवाज व आदत मिलती-जुलती है यह निम्न में से किसका परिणाम है—
 (क) अनुकूलन (ख) प्रतिकूलन (ग) संयोजन (घ) वंशागत
125. डेविड राजस्थान घूमने गया उसने होटल में राजस्थानी खाना, खाना चाहा तो उसे क्या परोसा गया होगा—
 (क) दाल-बाटी (ख) इड़ली-डोसा (ग) मछली-भात (घ) चाऊमीन, मंचूरियन
126. कच्चे मकान के निर्माण में काम आने वाली सामग्री कौनसी है—
 (क) सीमेंट, मिट्टी, लोहा (ख) लोहा, ईट, सीमेंट
 (ग) मिट्टी, बाँस, केलू (घ) केलू, पत्थर, सीमेंट
127. निम्न में से कौनसा कार्य आपके विद्यालय की विकास समिति के कार्यक्षेत्र में नहीं है—
 (क) विद्यालय की मरम्मत करना। (ख) जल व्यवस्था करना।
 (ग) खेलकूद मैदान की व्यवस्था करना। (घ) शिक्षकों की नियुक्ति करना।
128. अध्यापक कक्षा चार को शैक्षिक भ्रमण के लिए ले गए। एनिकट देखकर मीना ने उसे बनाने का प्रमुख कारण पूछा। अध्यापक ने कौनसा कारण बताया होगा—
 (क) प्रयोगशाला में उपयोग हेतु। (ख) सीमा निर्धारण हेतु।
 (ग) जल के संरक्षण हेतु। (घ) गैस बनाने हेतु
129. हमारे सौर परिवार का मुखिया कौन है—
 (क) पृथ्वी (ख) मंगल (ग) सूर्य (घ) चंद्रमा
130. आकाश में पूर्ण चंद्रमा कब दिखाई देता है—
 (क) अमावस्या (ख) अष्टमी (ग) चतुर्थी (घ) पूर्णिमा
131. माताजी ने बच्चों को लू चलने के कारण बाहर खेलने के लिए मना किया। घर के एक कमरे में बैठ कर क्या खेलेंगे?
 (क) मारदंडी (ख) चौपड़ (ग) कबड्डी (घ) वॉलीबॉल
132. राम पढ़ना चाहता है परन्तु वह देख नहीं सकता। उसे पढ़ने के लिए कौनसी लिपि मदद करेगी—
 (क) देवनागरी (ख) लेटिन (ग) ग्रीक (घ) ब्रेल
133. निम्नांकित चित्र को देखकर बताइए कि ब्रेल लिपि में No को किस प्रकार लिखा जायेगा—



- (क)  
- (ख)  
- (ग)  
- (घ)  

134. रहट का उपयोग किस कार्य हेतु किया जाता है—

(क) सिंचाई के लिए

(ख) फसल बुवाई के लिए

(ग) फसल कटाई के लिए

(घ) फसल सुखाने के लिए

135. प्राचीन काल में पहाड़ों पर किले बनाने के लिए कई टन बड़े पत्थरों को किसके द्वारा पहुँचाया जाता था—

(क) ट्रक द्वारा

(ख) मोटर गाड़ी द्वारा

(ग) बैलगाड़ी द्वारा

(घ) हाथियों द्वारा

136. समूह 'अ' व 'ब' में सही सुमेल का क्रमांक बताइये—

(अ)

(ब)

(क) पीपल



(ख) नीम



(ग) कमल



(घ) केला



137. बया पक्षी अपना घोंसला कहाँ बनाती है—

(क) पेड़ पर

(ख) बिल बना कर

(ग) घरों में

(घ) घर की छत पर

138. राष्ट्रगान की रचना किसने की—

(क) बंकिम चन्द्र चटर्जी

(ख) रविन्द्र नाथ टैगोर

(ग) जवाहर लाल नेहरू

(घ) लाल बहादुर शास्त्री

139. प्लास्टिक की थैली के उपयोग पर सरकार ने प्रतिबंध क्यों लगा रखा है।

(क) क्योंकि प्लास्टिक की थैलियाँ बनाने वाले ने टैक्स नहीं दिया।

(ख) क्योंकि कपड़े की थैलियाँ इससे ज्यादा सस्ती है।

(ग) क्योंकि सभी देश ऐसा कर रहे हैं।

(घ) क्योंकि यह नष्ट नहीं होती।

140. मोहन पिताजी के साथ खेत पर उनकी मदद के लिए गया। उसने देखा पिताजी मिट्टी को उपजाऊ बनाने के लिए कुछ डाल रहे थे, वह मिट्टी में क्या डाल रहे थे—

(क) पानी

(ख) बीज

(ग) खाद

(घ) कीटनाशक

141. राजस्थान में रेल से यात्रा करते समय चंदा ने किसानों को खेत जोतते हुए देखा। किसान किस पशु का उपयोग करते दिखे—

(क) गाय

(ख) बैल

(ग) घोड़ा

(घ) गधा

142. ऐसा कौनसा आकाशीय पिंड है जिसका आकार हमें प्रतिदिन बदला हुआ दिखता है—

(क) चंद्रमा

(ख) सूर्य

(ग) पृथ्वी

(घ) मंगल

143. बनारस हिन्दु विश्वविद्यालय की स्थापना किसने की—

(क) महात्मा गांधी

(ख) जवाहर लाल नेहरू

(ग) प. मदन मोहन मालवीय

(घ) लाल बहादुर शास्त्री

144. राधा ने पानी में कुछ घोलने की कोशिश की वह घुला नहीं बल्कि ऊपर तैरने लगा वह वस्तु क्या थी—

(क) दूध

(ख) घी

(ग) नमक

(घ) चीनी

145. निम्न लिखित में से यातायात के कौनसे साधन की टंकी में पेट्रोल/डीजल सबसे अधिक भरा जा सकता है—

(क) बस

(ख) मोटर साइकिल

(ग) कार

(घ) जीप

146. पानी में मिलने वाले तीन पौधों का समूह कौनसा है—

(क) जलकुंभी, गुलाब, चमेली

(ख) सिंघाडा, जलकुंभी, तुलसी

(ग) कमल, सिंघाड़ा, जलकुंभी

(घ) तुलसी, गुलाब, कमल

147. दिए गए चित्र में क्या दिखाया गया है—



(क) जल शुद्धीकरण

(ख) वाष्पीकरण

(ग) वर्षाजल संग्रहण

(घ) संघनन

148. विजय स्तम्भ की ऊँचाई कितनी फीट है—

(क) 132 फीट

(ख) 122 फीट

(ग) 130 फीट

(घ) 75 फीट

149. कौनसा पक्षी सबसे अधिक दूरी की वस्तु को भी स्पष्टतः देख सकता है—

(क) कबूतर

(ख) बाज

(ग) कौआ

(घ) तोता

150. आपकी माताजी की माताजी का पुत्र आपके रिश्ते में क्या लगता है—

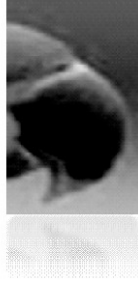
(क) चाचाजी

(ख) मामाजी

(ग) फुफाजी

(घ) मौसाजी

151. निम्नांकित में से किस समूह में केवल पालतू पशुओं के नाम सम्मिलित है—
 (क) गाय, बकरी, घोड़ा (ख) गाय, शेर, चीता (ग) घोड़ा, लोमड़ी, गाय (घ) हिरण, शेर, बकरी
152. गणतंत्र दिवस को किस पर्व के रूप में मनाते हैं—
 (क) सामाजिक पर्व (ख) राष्ट्रीय पर्व (ग) धार्मिक पर्व (घ) सांस्कृतिक पर्व
153. गीता की बड़ी बहिन की शादी थी। बहिन ने हाथों में बहुत सी चूड़ियाँ पहनी थी, वह किस पशु के दाँत से बनाई जाती है—
 (क) गाय (ख) घोड़ा (ग) हाथी (घ) गधा
154. दिया गया चित्र किस पक्षी की चोंच का है—



- (क) चील (ख) तोता (ग) कटफोड़वा (घ) कौआ
155. किस पशु के कान सबसे बड़े आकार के होते हैं—
 (क) हाथी (ख) गाय (ग) खरगोश (घ) बकरी
156. भूकंपरोधी मकान कितने रिक्टर तक की तीव्रता को सहन कर सकते हैं—
 (क) 5 रिक्टर (ख) 7 रिक्टर (ग) 3 रिक्टर (घ) 10 रिक्टर
157. पीने योग्य जल को घरों तक पहुँचाने में कौनसे साधन का उपयोग किया जाता है—
 (क) नहरों द्वारा (ख) बाँध द्वारा (ग) पाइप लाइन द्वारा (घ) एनिकट द्वारा
158. ब्लॉक प्रिंटिंग किस जिले की प्रसिद्ध है—
 (क) उदयपुर (ख) बाड़मेर (ग) बांसवाड़ा (घ) अलवर
159. सर्दी में बचाव के लिए कौनसे वस्त्र पहने जाते हैं—
 (क) सूती वस्त्र (ख) ऊनी वस्त्र (ग) रेशमी वस्त्र (घ) मलमल के वस्त्र
160. पोंगल त्योहार मुख्य रूप से किस राज्य में मनाया जाता है—
 (क) तमिलनाडु (ख) कर्नाटक (ग) प.बंगाल (घ) राजस्थान
161. दूध बेचने का व्यवसाय कौनसा व्यवसाय कहलाता है—
 (क) डेयरी व्यवसाय (ख) खादी व्यवसाय (ग) किराणा व्यवसाय (घ) वस्त्र व्यवसाय

162. आपके गाँव की दुकान जहाँ सभी तरह की सामग्री मिल जाती है। वह दुकानदार अपने दुकान की सामग्री कहाँ से खरीदता है—
 (क) छुटकर व्यापारी (ख) थोक व्यापारी (ग) किसान के यहाँ से (घ) फेरी वालों से
163. यदि आपको रेल से यात्रा नहीं करनी है आप अपने साथी को छोड़ने रेलवे स्टेशन जा रहे हैं तो आप कौनसा टिकिट लेंगे—
 (क) यात्री टिकिट (ख) प्लेटफॉर्म टिकिट (ग) बस का टिकिट (घ) सिनेमा का टिकिट
164. ऐसा कौनसा वाहन है जिसमे पेट्रोल, डीजल नहीं डालना पड़ता है—
 (क) साइकिल (ख) मोटर साइकिल (ग) टेंपो (घ) स्कूटी
165. ईंधन की बचत के लिए आप यातायात के किस साधन का प्रयोग करेंगे—
 (क) स्कूटर (ख) साइकिल (ग) मोटर साइकिल (घ) कार
166. बिना टिकिट यात्रा करना कौनसा अपराध कहलाता है—
 (क) राजनैतिक अपराध (ख) सामाजिक अपराध (ग) कानूनी अपराध (घ) आर्थिक अपराध
167. कोयला कहाँ से निकाला जाता है—
 (क) खदानों से (ख) कल कारखानों से (ग) दुकानों से (घ) उद्योग धंधों से
168. राजस्थान के किस जिले में कोयले की खदाने है—
 (क) बीकानेर (ख) जोधपुर (ग) उदयपुर (घ) बाँसवाड़ा
169. कुंभलगढ़ दुर्ग किस उपनाम से जाना जाता है—
 (क) मेवाड़ की आँख (ख) मारवाड़ की आँख (ग) शेखावटी की आँख (घ) ढूँढार की आँख
170. संसार की सबसे ऊँची पर्वत चोटी कौनसी है—
 (क) गुरु शिखर (ख) कंचनजंघा (ग) माउंट एवरेस्ट (घ) नंदा देवी
171. सबसे कम उम्र में माउंट एवरेस्ट पर चढ़ने वाली महिला कौन थी—
 (क) बछेंद्री पाल (ख) संतोष यादव (ग) कल्पना चावना (घ) प्रेमलता यादव
172. प्रथम भारतीय अंतरिक्ष यात्री कौन था—
 (क) कल्पना चावला (ख) राकेश शर्मा (ग) सुनिता विलियम्स (घ) नील आर्मस्ट्रॉंग
173. निम्नांकित में से कौनसा समूह खाने योग्य पत्तियों का है—
 (क) पालक, पीपल, गोभी (ख) मेथी, अनार, बरगद
 (ग) पालक, मेथी, धनिया (घ) धनिया, मेथी, आलू
174. आपकी माताजी की बहिन की माँ आपकी क्या लगती है—
 (क) दादीजी (ख) मौसीजी (ग) बुआजी (घ) नानीजी

175. रात में सोते समय पक्षी गिरते क्यों नहीं हैं।
 (क) वह पंजो को सिकोड़ कर डाल को पकड़ लेता है।
 (ख) पंजो को फैला देता है।
 (ग) पंख को फैला देता है।
 (घ) पंख को सिकोड़ लेता है।
176. इग्लू बना होता है—
 (क) ईंट से (ख) पत्थर से (ग) बर्फ (घ) लकड़ी से
177. शाला से आकर मोहन ने खाने के लिए रोटियों का डिब्बा खोला तो उसने देखा कि ढक्कन में पानी की बूँदे जमी हुई थी यह कौनसी प्रक्रिया थी—
 (क) वाष्पन (ख) वर्षा (ग) संघनन (घ) पाला
178. आजम फर्नीचर की दुकान में काम करता है, एक कील लकड़ी के बुरादे में गिर गई। कील को ढूँढ़ने के लिए सबसे उपयुक्त साधन होगा ?
 (क) टार्च (ख) चुंबक (ग) छलनी (घ) पानी
179. माँ रोहित को फेरीवाले से चाट नहीं खाने देती है घर पर बनाकर खिलाती है क्योंकि—
 (क) घर की चाट स्वच्छता से बनी है। (ख) उसकी फेरीवाले से लड़ाई है।
 (ग) फेरीवाला उसके गाँव का नहीं है। (घ) उसको चाट बनाने का शौक है।
180. अजीत का मोटर साइकिल चलाते समय एकसीडेंट हो गया क्योंकि—
 (क) वह सड़कर के बाएँ तरफ चल रहा था।
 (ख) उसने हेलमेट पहना था।
 (ग) वह मोबाइल पर ईयर फोन लगाकर गाने सुन रहा था।
 (घ) वह गाड़ी धीरे चला रहा था।
181. रवि को जुकाम हो रहा है, उसे किस पौधे की पत्ती की चाय बनाकर पीनी चाहिए—
 (क) पुदीना (ख) तुलसी (ग) ग्वारपाठा (घ) नीम
182. कोई जानवर अंडे देता है या बच्चे, ये आप कैसे पहचान सकते हैं—
 (क) उसके पैर देखकर (ख) उसके दाँत देखकर
 (ग) उसके कान देख कर (घ) उसकी आँख देखकर
183. ऊँटगाड़ी किस क्षेत्र के लिए उपयोगी है—
 (क) रेगिस्तान में (ख) जंगल में (ग) पहाड़ों में (घ) दलदलीय क्षेत्र में

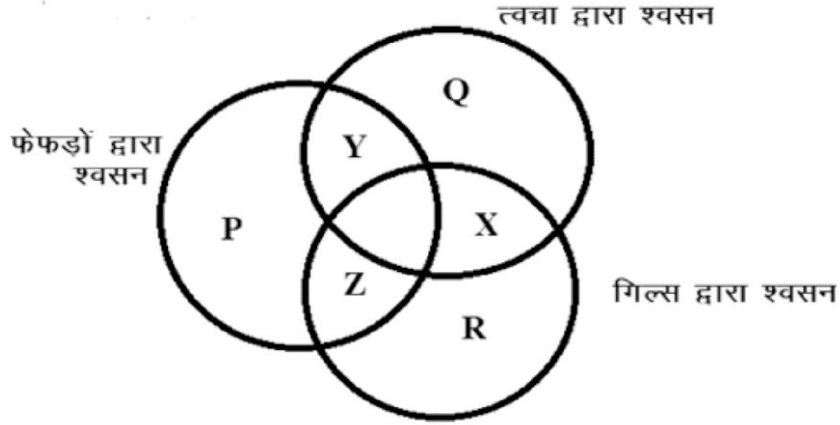
184. निम्न से कौनसा मसाला सब्जी का रंग पीला कर देता है—

- (क) हल्दी (ख) मिर्च (ग) नमक (घ) धनिया

185. हमें वन्य जीवों के बचाव के लिए क्या करना चाहिए—

- (क) घर में पालना चाहिए (ख) उन्हें पिंजरे में बंद कर रखना चाहिए।
(ग) वनों को नष्ट नहीं करना। (घ) सर्कस में रखना चाहिए।

186. नीचे दिये गये चित्र को देख कर बताइए मछली किस क्षेत्र में आएगी —

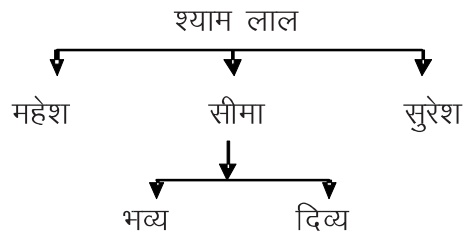


- (क) Q (ख) R (ग) Y (घ) Z

187. निम्न में से किस समूह में तेल उत्पादन वाली फसल है—

- (क) सोयाबीन, सरसों (ख) मूँगफली चना (ग) सूर्यमुखी, मूँग (घ) सरसों, ग्वार

188. नीचे दिए गए वंश चित्र को देखो और बताओ—



सीमा श्याम लाल की क्या लगती है—

- (क) पुत्री (ख) बहिन (ग) मौसी (घ) चाची

189. श्याम लाल भव्य के क्या लगते हैं—

- (क) दादा (ख) नाना (ग) चाचा (घ) मामा

190. सुरेश दिव्य के क्या लगते हैं—

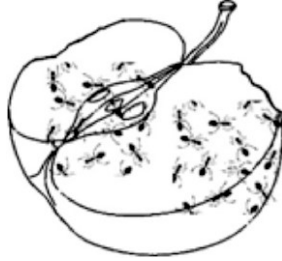
- (क) चाचा (ख) मामा (ग) मौसा (घ) नाना

उत्तरमाला (पर्यावरण अध्ययन)

1 (ग)	2 (ख)	3 (ख)	4 (ग)	5 (ग)
6 (ख)	7 (क)	8 (क)	9 (ख)	10 (ग)
11 (क)	12 (ग)	13 (ख)	14 (ग)	15 (ख)
16 (ख)	17 (क)	18 (ग)	19 (ग)	20 (क)
21 (ख)	22 (ग)	23 (ख)	24 (ख)	25 (क)
26 (क)	27 (ग)	28 (ग)	29 (ख)	30 (ख)
31 (ग)	32 (ख)	33 (घ)	34 (ख)	35 (ग)
36 (ग)	37 (क)	38 (ख)	39 (ग)	40 (ख)
41 (घ)	42 (घ)	43 (ग)	44 (ग)	45 (क)
46 (ग)	47 (ग)	48 (ग)	49 (ख)	50 (ग)
51 (घ)	52 (ग)	53 (घ)	54 (ग)	55 (ग)
56 (ग)	57 (ख)	58 (ख)	59 (घ)	60 (ग)
61 (क)	62 (ग)	63 (ग)	64 (ख)	65 (ख)
66 (क)	67 (ग)	68 (ख)	69 (क)	70 (ग)
71 (ग)	72 (ग)	73 (ग)	74 (ख)	75 (ग)
76 (क)	77 (ग)	78 (ग)	79 (क)	80 (क)
81 (क)	82 (ग)	83 (ग)	84 (क)	85 (घ)
86 (ग)	87 (ख)	88 (ख)	89 (घ)	90 (ख)
91 (ख)	92 (घ)	93 (घ)	94 (क)	95 (ख)
96 (ग)	97 (ख)	98 (घ)	99 (ख)	100 (घ)
101 (ख)	102 (ग)	103 (घ)	104 (घ)	105 (क)
106 (ख)	107 (ख)	108 (ख)	109 (क)	110 (ख)
111 (ग)	112 (ख)	113 (क)	114 (क)	115 (ग)
116 (घ)	117 (ख)	118 (घ)	119 (क)	120 (घ)
121 (घ)	122 (ख)	123 (ग)	124 (घ)	125 (क)
126 (ग)	127 (घ)	128 (ग)	129 (ग)	130 (घ)
131 (ख)	132 (घ)	133 (ग)	134 (क)	135 (घ)
136 (घ)	137 (क)	138 (ख)	139 (घ)	140 (ग)
141 (ख)	142 (क)	143 (ग)	144 (ख)	145 (क)
146 (ग)	147 (ग)	148 (ख)	149 (ख)	150 (ख)
151 (क)	152 (ख)	153 (ग)	154 (ख)	155 (क)
156 (ख)	157 (ग)	158 (ख)	159 (ख)	160 (क)
161 (क)	162 (ख)	163 (ख)	164 (क)	165 (ख)
166 (ग)	167 (क)	168 (क)	169 (क)	170 (ग)
171 (ख)	172 (ख)	173 (ग)	174 (घ)	175 (क)
176 (ग)	177 (ग)	178 (ख)	179 (क)	180 (ग)
181 (ख)	182 (ग)	183 (क)	184 (क)	185 (ग)
186 (ख)	187 (क)	188 (क)	189 (ख)	190 (ख)

NAS 2017 कक्षा-5 (पर्यावरण अध्ययन)

1. नीचे दिए गए चित्र में आप देख रहे हैं कि बहुत सी चींटियाँ आधे खाए हुए फल के टुकड़े के ऊपर हैं। इससे चींटी की किस विशेषता का पता चलता है।



- (अ) चींटियों की सूँघने की क्षमता तीव्र होती है। (ब) चींटियाँ बहुत छोटी होती हैं।
 (स) चींटियाँ किसी चीज को सूँघ नहीं सकती। (द) चींटियों का रंग काला होता है।
2. निम्न में से कौन-सा कार्ड आप 18 वर्ष की उम्र के पश्चात् ही प्राप्त कर सकते हैं?
 (अ) आधार कार्ड (ब) राशन कार्ड (स) रिपोर्ट कार्ड (द) मतदाता पहचान पत्र
3. निम्न दिए गए चित्र के अनुसार X, Y और Z डिब्बों में सबसे कम भार किसका है?



- (अ) X (ब) Y
 (स) Z (द) सभी का भार समान है।
4. निम्नलिखित वस्तुओं को मिट्टी में दबाया गया, कुछ वर्ष बाद उन्हें खोद कर निकाला गया। कौन-सी वस्तु में सबसे कम परिवर्तन की संभावना होगी?
 (अ) प्लास्टिक कप (ब) पेपर प्लेट (स) संतरे के छिलके (द) कपड़े का थैला
5. नीचे एक पहेली दी गयी है :-

1	*	3
*	2	*
3	*	1

नियम : प्रत्येक पंक्ति और स्तंभ का योग 6 होना चाहिए।

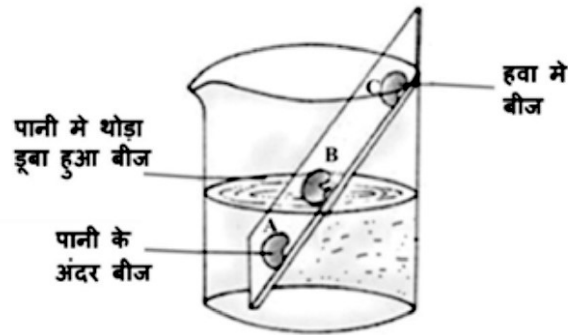
*के स्थान पर कौन सी एकल संख्या आएगी।

- (अ) 1 (ब) 2 (स) 3 (द) 4

6. नीचे दिए गए मानचित्र को देखिए और बताइए कि कौन-सा नगर भारत के दक्षिणी भाग में स्थित है?

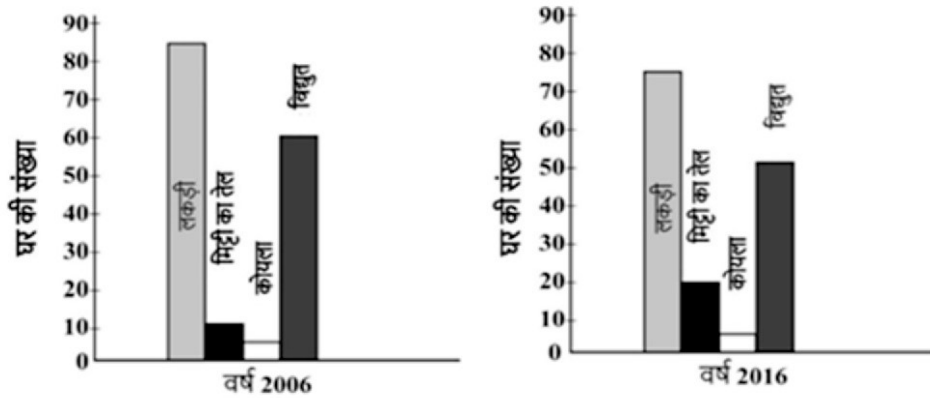


- (अ) दिल्ली (ब) मुंबई (स) कोलकाता (द) चेन्नई
7. किस प्रकार का शौचालय प्रयोग के लिये स्वच्छ और सुरक्षित होता है?
 (अ) खेतों में खुला शौचालय पानी के साथ (ब) ढका हुआ शौचालय पानी के बिना
 (स) ढका हुआ शौचालय पानी के साथ (द) सार्वजनिक शौचालय पानी के बिना
8. आपकी मित्र को दस्त और उल्टी हो रही है। आप उसे बेहतर महसूस कराने के लिए इनमें से कौन-सी प्राथमिक सहायता देंगे?
 (अ) नमक और इमली (ब) दूध और चीनी
 (स) पानी, चीनी और नमक (द) दूध के साथ आम
9. नीचे दिए गए चित्र को देखिए।

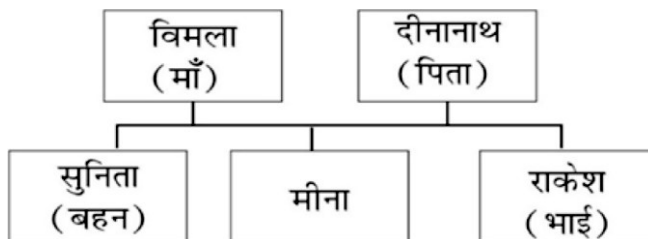


10. कौन से बीज की अवस्था अंकुरण के लिए सही है?
 (अ) बीज A (ब) बीज B (स) बीज C (द) उपर्युक्त सभी
11. कपास का बीज हल्का और रोएदार होता है। निम्न में से कौन इसे फैलाने में सबसे अधिक सहायक है?
 (अ) हवा (ब) पानी (स) पशु (द) पौधे

12. अगर आप एक लोहे की कील और एक पंख पानी की बाल्टी में डालेंगे तो क्या होगा?
 (अ) लोहे की कील डूब जाएगी और पंख तैरेगा। (ब) लोहे की कील तैरेगी और पंख डूब जाएगा।
 (स) लोहे की कील और पंख दोनों तैरेंगे। (द) लोहे की कील और पंख दोनों डूब जाएँगे।
13. एक गाँव में एक परिवार नए राशन कार्ड के लिए पंजीकरण कराना चाहता है। इसके लिए उन्हें कहाँ जाना चाहिए?
 (अ) डाकघर (ब) प्राथमिक स्वास्थ्य (स) केन्द्रपंचायत (द) पुलिस चौकी
14. नीचे दिए गए ग्राफ को देखो—




- वर्ष 2006 से 2016 के दौरान, किन दो ईंधनों के उपयोग में कमी आई है?
 (अ) लकड़ी और मिट्टी का तेल (ब) मिट्टी का तेल और कोयला
 (स) लकड़ी और कोयला (द) विद्युत और लकड़ी
15. ऐतिहासिक स्मारकों को देखते समय क्या करना गलत है?
 (अ) फोटो खींचना (ब) दिए गए निर्देशों के अनुसार परिसर में चलना
 (स) दीवारों पर अपना नाम लिखना (द) कचरे के डिब्बों में कूड़ा डालना
16. नीचे मीना का परिवार वृक्ष दिखाया गया है। इसके आधार पर दिए गए प्रश्न का उत्तर दीजिए।



- राकेश की शादी हुई और उसे एक बेटा हुआ। दीनानाथ के साथ राकेश के बेटे का क्या संबंध होगा?
 (अ) पोता (ब) पुत्र (स) भाई (द) बहनोई

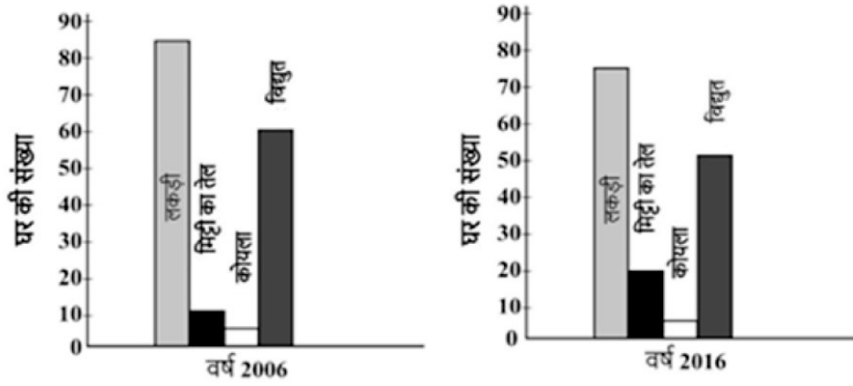
17. आपकी दोस्त को सुबह से लगातार उल्टियाँ और दस्त हो रहे हैं। उसकी इस हालत का क्या कारण हो सकता है?
- (अ) उसने रात को घर का स्वच्छ और पौष्टिक भोजन किया।
 (ब) उसने ऐसी दुकान से खाना खाया जो बिना ढका हुआ था।
 (स) वह रात में अच्छी नींद सोई।
 (द) उसने खाना खाने से पहले अच्छी तरह से हाथ धोए।
18. एक गर्म उबला हुआ अंडा एक ठंडे पानी के प्याले में रखा गया है। दोनों के तापमानों में क्या बदलाव होगा?
- (अ) पानी थोड़ा ठंडा और अंडा थोड़ा गर्म हो जाएगा।
 (ब) पानी थोड़ा गर्म और अंडा थोड़ा ठंडा हो जाएगा।
 (स) पानी और अंडा दोनों और अधिक गर्म हो जाएँगे।
 (द) पानी और अंडा दोनों और अधिक ठंडे हो जाएँगे।
19. पौधे का उनकी बढ़ती हुई लंबाई के अनुसार वर्गीकरण किया जा सकता है, जैसे जड़ी-बूटी, झाड़ी और पेड़। इससे जुड़ा हुआ निम्न में से कौन-सा कथन सही है।
- (अ) घास एक पेड़ है। (ब) गुलाब एक झाड़ी है।
 (स) केला एक झाड़ी है। (द) आम का पेड़ एक औषधि है।
20. नीचे दिया गया चित्र देखिए :



आपके अनुसार कौन-सा निष्कर्ष सही है?

- (अ) पानी तेल से भारी है। (ब) तेल पानी से भारी है।
 (स) मिट्टी तेल से हल्की है। (द) तेल मिट्टी से भारी है।
21. केंचुए को किसान का परम मित्र क्यों कहते हैं?
- (अ) वह कीड़ों के लिए अंडे देते हैं। (ब) वह कौओं का खाना होता है।
 (स) वह मिट्टी में पोषक तत्वों को बढ़ा देते हैं। (द) वह दूसरे कीड़ों को मिट्टी के अंदर खा लेते हैं।

22. वर्ष 2016 में, मिट्टी के तेल का उपयोग कितने घरों में हुआ?



(अ) 75 (ब) 18 (स) 5 (द) 20

23. निम्न में से कौन-सा कार्य पुलिस का नहीं है?

(अ) नियम और कानून का पालन करना (ब) भीड़ को नियंत्रित करना
(स) ऋण देना (द) सार्वजनिक सम्पत्ति का बचाव करना

24. क्या होगा यदि लड़कियों को खेल खेलने की अनुमति नहीं होगी?

(अ) उन्हें टेलीविजन देखने का समय मिलेगा (ब) उनके शारीरिक विकास में बाधा आ सकती है।
(स) उन्हें अधिक पढ़ने का प्रोत्साहन मिलेगा। (द) उन्हें दोस्त बनाने का प्रोत्साहन मिलेगा।

25. रेगिस्तान में उगने वाले नागफनी के पौधे की पत्तियाँ काँटे के आकार की होती हैं। पत्तियों के काँटे के आकार का होना पौधे की किस प्रकार से सहायता करता है?



(अ) पानी को अवशोषित करने के लिए (ब) पानी के वाष्पीकरण से बचाने के लिए
(स) सूर्य के प्रकाश को अवशोषित करने के लिए (द) काँटे में रेत को इकट्ठा करने के लिए